



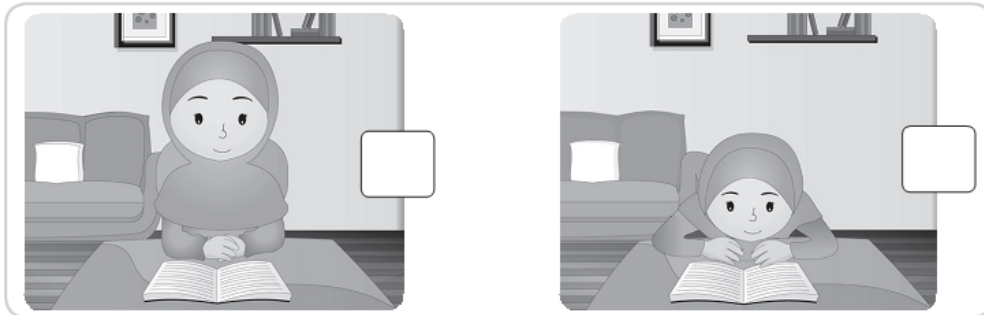
Nama: _____

Kelas: _____ Tanggal: _____

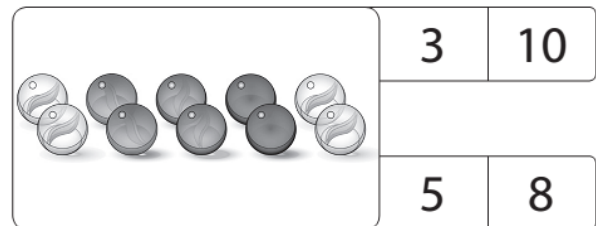
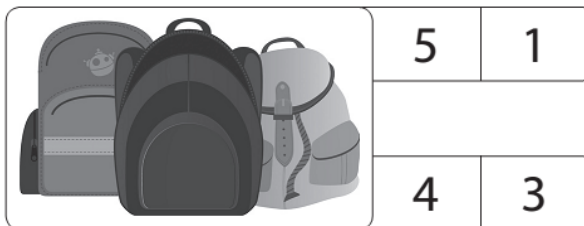
LEMBAR PORTOFOLIO

Pembelajaran 3

1. **(B. Ind)** Berilah tanda ✓ pada sikap duduk yang benar.



2. **(Mat)** Lingkarilah bilangan yang sesuai dengan banyak benda.



3. **(PPKn)** Tulislah jadwal bangun dan tidurmu selama satu minggu.

No.	Hari	Tanggal	Waktu Bangun	Waktu Tidur
1.	Senin			
2.	Selasa			
3.	Rabu			
4.	Kamis			
5.	Jumat			
6.	Sabtu			
7.	Minggu			

Pembelajaran 4

4. **(B. Ind)** Berilah tanda ✓ pada jawaban yang benar.

a. Kita sebaiknya membaca di tempat yang _____

<input type="checkbox"/>	terang
<input type="checkbox"/>	redup
<input type="checkbox"/>	gelap

b. Posisi tubuh saat membaca, yaitu _____

<input type="checkbox"/>	duduk tegak
<input type="checkbox"/>	tengkurap
<input type="checkbox"/>	berbaring

5. **(SBdP)** Berilah tanda ✓ pada gerakan yang menghasilkan bunyi.

<input type="checkbox"/>	Mengentakkan kaki ke lantai
<input type="checkbox"/>	Mengangkat tangan
<input type="checkbox"/>	Menjentikkan jari

<input type="checkbox"/>	Menepuk paha
<input type="checkbox"/>	Bertepuk tangan
<input type="checkbox"/>	Menggenggam tangan

Pembelajaran 5

6. **(Mat)** Hitunglah banyak huruf pada kata-kata berikut. Lingkarilah lambang bilangan yang sesuai.

mata → 2 3 4

mulut → 5 4 3

Pembelajaran 6

7. **(PPKn)** Berilah tanda ✓ pada jawaban yang tepat. Olahraga sebaiknya dilakukan _____

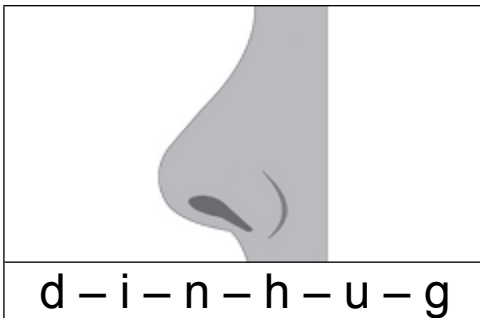
<input type="checkbox"/>	secara teratur
<input type="checkbox"/>	pada pagi hari
<input type="checkbox"/>	ketika sedang sakit
<input type="checkbox"/>	oleh anak-anak saja

Lingkarilah jawaban yang benar.

8. **(B. Ind)** Membaca sebaiknya dilakukan di tempat

- a. gelap
- b. redup
- c. terang

9. **(B. Ind)** Amatilah gambar berikut.



Susunan huruf yang benar adalah

- a. h i d u g n
- b. h i d u n g
- c. h d u n g i

10. **(SBdP)** Contoh gerakan kaki adalah

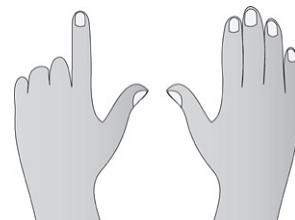
- a. mengentak
- b. bertepuk
- c. bersiul

11. **(PPKn)** Aturan saat makan adalah

- a. berdoa saat makan
- b. tidak berbicara saat makan
- c. mencuci tangan saat makan

12. **(Mat)** Lambang bilangan dari jari-jari di samping adalah

- a. 2
- b. 5
- c. 7



13. **(Mat)** Gambar yang banyaknya sama dengan gambar di samping adalah



Isilah dengan jawaban yang tepat.

14. **(B. Ind)** Buatlah ejaan dari kata-kata berikut.

Contoh: mata → m-a-t-a → ma-ta

a. pipi → _____ → _____

b. jari → _____ → _____

c. kuku → _____ → _____

15. **(Mat)** Tulislah banyak huruf bagian tubuh berikut.

a. Mata : _____

b. Jari kaki : _____

Catatan Guru: