



Nama: \_\_\_\_\_

Kelas: \_\_\_\_\_ Tanggal: \_\_\_\_\_

## LEMBAR PORTOFOLIO

### Pembelajaran 1

1. **(SbdP)** Lingkarilah jawaban yang benar.

a. Bahan-bahan yang digunakan untuk melukis dengan jari adalah . . . .

buku gambar

kuas

cat air

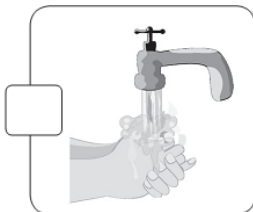
spidol

b. Setelah melukis dengan jari, kita sebaiknya mencuci . . . .

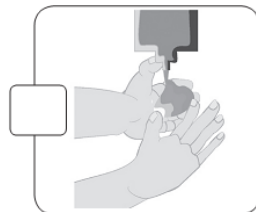
tangan

kaki

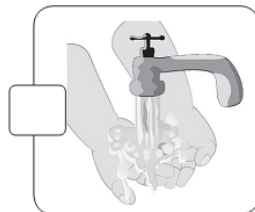
2. **(PPKn)** Tulislah 1, 2, 3, dan 4 sesuai urutan cara mencuci tangan yang benar.



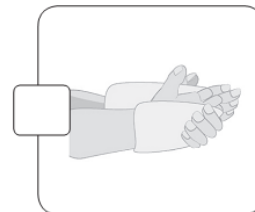
Bilasliah tangan hingga busa sabun hilang.



Tuangkan sabun ke tangan. Gosoklah tanganmu hingga berbusa.



Basahliah tangan dengan air bersih yang mengalir.



Keringkan tangan dengan handuk bersih atau tisu.

### Pembelajaran 2

3. **(B. Ind)** Berilah tanda ✓ pada cara menulis yang benar.

Jarak mata sangat dekat dengan buku.

Menulis di tempat yang terang.

### Pembelajaran 3

4. **(Mat)** Bandingkan banyaknya benda dengan menuliskan **lebih banyak, lebih sedikit, atau sama dengan**.



A



B

Banyak sampo A ada \_\_\_\_\_.  
 Banyak sampo B ada \_\_\_\_\_.  
 Sampo A \_\_\_\_\_  
 dari sampo B.

### Pembelajaran 4

5. **(B. Ind)** Lingkarilah kata yang tepat untuk melengkapi kalimat.

a. Kuku ada di ujung . . . .

jari

rambut

b. Kuku sehat adalah kuku yang . . . .

kotor

bersih

c. Kuku panjang dan kotor harus . . . .

dipotong

disikat

### Pembelajaran 5

6. **(Mat)** Urutkan bilangan berikut dari yang terkecil.

6 8 10 9 7 → 6 □ □ □ □

3 2 4 1 5 → □ □ □ □ □

### Pembelajaran 6

7. **(PPKn)** Tulislah jadwal merawat kebersihan tubuhmu.  
 Tulislah pada tabel berikut.

Kegiatan	Senin	Selasa	Rabu	Kamis	Jumat	Sabtu	Minggu
Menggosok gigi (isilah berapa kali sehari)							
Mandi (isilah berapa kali sehari)							
Keramas							

Lingkarilah jawaban yang benar.

8. **(SBdP)** Amatilah gambar berikut.



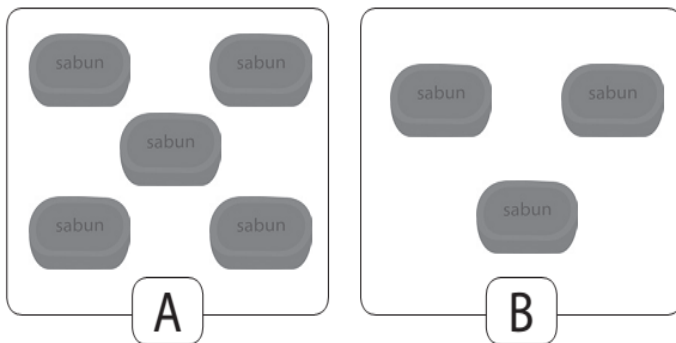
Tahapan melukis dengan jari pada gambar adalah . . . .

- a. menjiplak tangan
- b. mewarnai hasil jiplakan
- c. menyiapkan alat dan bahan

9. **(PPKn)** Menyikat gigi dilakukan paling sedikit . . . kali sehari.

- a. satu
- b. dua
- c. tiga

10. **(Mat)** Amatilah gambar berikut.



Perbandingan yang tepat untuk banyak benda di samping adalah . . . .

- a. A sama dengan B
- b. A kurang dari B
- c. A lebih dari B

11. **(B. Ind)** Cara memegang pensil yang benar adalah . . . .

- a. menggenggam dengan dua tangan
- b. menggenggam pensil dengan tangan kiri
- c. memegang dengan jari telunjuk dan ibu jari

12. **(B. Ind)** **I l i n g k u n g a n**

Huruf vokal pada kata tersebut adalah . . . .

- a. a, i, dan u
- b. a, e, dan i
- c. e, o, dan u

**Isilah dengan jawaban yang benar.**

13. **(PPKn)** Lingkarilah jawaban yang tepat.

Membersihkan telinga dilakukan dengan . . . .

sapu tangan

sikat gigi

14. **(B. Ind)** Lingkarilah jawaban yang tepat.

Kita sebaiknya menulis di tempat yang . . . .

redup

terang

gelap

15. **(Mat)** Perhatikan urutan bilangan berikut.

6	3	5	4	2
---	---	---	---	---

Urutan bilangan di atas dari yang terkecil adalah . . . .

--	--	--	--	--

**Catatan Guru:**