



Nama: _____

Kelas: _____ Tanggal: _____

LEMBAR PORTOFOLIO

Pembelajaran 1

1. **(B. Ind)** Ayo, nyanyikan lagu berikut.

Kasih Ibu
Ciptaan: Ibu Sud

Kasih ibu kepada beta
Tak terhingga sepanjang masa
Hanya memberi tak harap kembali
Bagai sang surya menyinari dunia

Berilah tanda ✓ pada kalimat yang sesuai dengan isi lagu “Kasih Ibu”.

a. Kasih ibu bagaikan matahari.

b. Ibu selalu menyayangi anaknya.

c. Ibu meminta balas budi.

2. **(SbdP)** Manakah yang termasuk gerak cepat dan lambat? Berilah tanda ✓ pada kolom yang tepat.

No.	Gerakan	Jenis Gerakan	
		Cepat	Lambat
1.	Belalang melompat		
2.	Melambaikan tangan		
3.	Air terjun		
4.	Kupu-kupu terbang		

3. **(PPKn)** Apa yang kamu lakukan saat ibu memintamu bermain dengan adik?

Menemani adik bermain

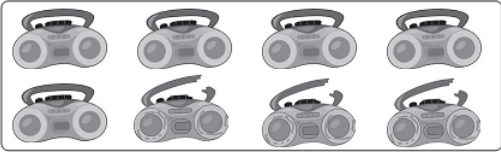
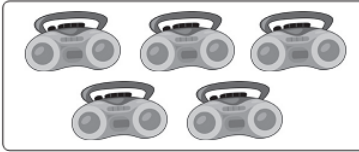
Bermain dengan teman


Pembelajaran 3

4. **(PPKn)** Berilah tanda ✓ pada sikap yang baik saat menjaga adik.



5. **(Mat)** Tulislah lambang bilangan pada sesuai banyak gambar.

a.  = 
 - =

b.  = 
 - =

Pembelajaran 5

6. **(B. Ind)** Amatilah gambar berikut.



Apakah gambar di samping menunjukkan kasih sayang kepada orang tua? _____
 Alasanku: _____

Pembelajaran 6

7. **(B. Ind)** Ayo, ceritakan tentang tokoh idolamu.
Lengkapilah kalimat berikut.

Tokoh idolaku adalah _____

Aku kagum kepada idolaku karena _____

8. **(Mat)** Kerjakan soal-soal berikut.

- a. Udin memiliki 8 pensil warna.

Adik Udin meminta 4 pensil warna Udin.

Berapa sisa pensil warna Udin sekarang?

$$\boxed{\dots} \square \boxed{\dots} = \boxed{\dots}$$

- b. Lani memiliki 3 buku cerita.

Kakak Lani memiliki 6 buku cerita.

Berapa banyak buku cerita mereka berdua?

$$\boxed{\dots} \square \boxed{\dots} = \boxed{\dots}$$

Lingkarilah jawaban yang benar.

9. **(SBdP)** Menimang-nimang termasuk gerak

- a. cepat
- b. lambat
- c. kencang

10. **(PPKn)** Setiap anggota keluarga harus saling

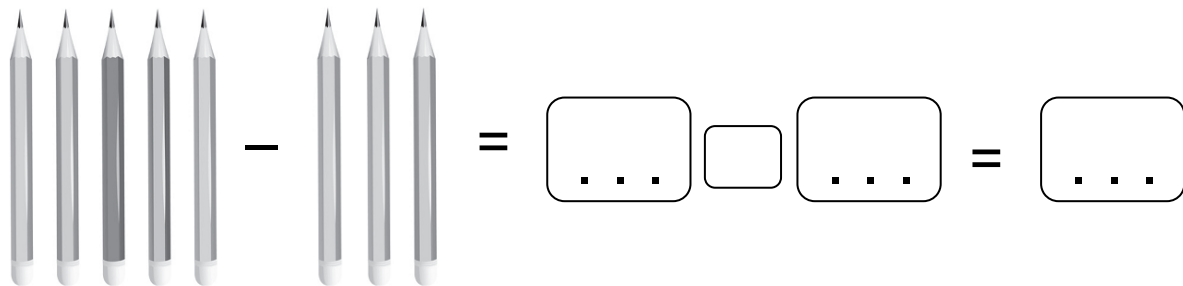
- a. tidak peduli
- b. menyayangi
- c. mengejek

11. **(Mat)** Ibu membeli 5 butir telur.
 Ibu menggoreng 3 butir telur.
 Sisa telur ibu sekarang adalah . . . butir.
- 3
 - 2
 - 1

Isilah dengan jawaban yang benar.

12. **(B. Ind)** Lagu “Kasih Ibu” mengungkapkan kasih sayang kepada _____
13. **(B. Ind)** Buatlah satu kalimat ungkapan terima kasih kepada gurumu.

14. **(SBdP)** Gerak kereta api yang melaju termasuk gerak _____
15. **(Mat)** Tulislah kalimat matematika sesuai gambar berikut.



Catatan Guru: