



Nama: \_\_\_\_\_

Kelas: \_\_\_\_\_ Tanggal: \_\_\_\_\_


## LEMBAR PORTOFOLIO

### Pembelajaran 1

1. **(B. Ind)** Pasangkan gambar berikut dengan kata yang sesuai!



Makan siang



Tidur siang



Berganti pakaian

2. **(PPKn)** Berilah tanda ✓ pada sikap menaati aturan pada siang hari!



Made langsung bermain sepulang sekolah.



Saat bel pulang berbunyi, Dedi segera pulang ke rumah.



Maria merapikan peralatan sekolah saat tiba di rumah.

### Pembelajaran 3

3. **(Mat)** Tulislah banyak benda berikut di rumahmu!

No.	Benda	Banyak Benda	
		Lambang Bilangan	Nama Bilangan
1.	Meja		
2.	Kursi		
3.	Pintu		
4.	Jendela		

## Pembelajaran 4


4. **(B. Ind)** Susunlah kata-kata berikut menjadi kalimat yang padu!

a. pulang – bersama – sekolah – Dedi – teman-temannya.


b. lelap – siang – Adik – tidur – dengan.

c. menyiapkan – Ibu – sedang – siang – makan.

5. **(SBdP)** Berilah tanda ✓ pada gerakan cepat!  
Berilah tanda ✗ pada gerakan lambat!  
Tuliskan gerak hewan yang ditirukan!



Menirukan gerak \_\_\_\_\_



Menirukan gerak \_\_\_\_\_


## Pembelajaran 5

6. **(Mat)** Tuliskan angka puluhan dan satuan pada bilangan-bilangan berikut!

Bilangan	Angka Puluhan	Angka Satuan
14		
20		
18		
11		
16		

## Pembelajaran 6

7. **(B. Ind)** Pasangkan gambar dengan kalimat perintah yang tepat!



Gantilah seragammu!

Makanlah makanan bergizi!



Jangan lupa tidur siang!

8. **(PPKn)** Berilah tanda ✓ pada sikap yang sesuai aturan! Berilah tanda ✗ pada sikap yang tidak sesuai aturan!

No.	Sikap	Sesuai/ Tidak Sesuai
1.	Mencuci tangan sebelum makan siang.	
2.	Meletakkan sepatu di rak sepatu.	
3.	Membiarkan mainan berantakan.	
4.	Langsung bermain sepulang sekolah.	
5.	Meminta izin pada orang tua sebelum bermain.	

### Lingkarilah jawaban yang benar!


9. **(B. Ind)** Kegiatan yang dilakukan pada siang hari adalah . . . .



10. **(PPKn)** Contoh aturan di rumah pada siang hari adalah . . . .

- pulang sekolah tepat waktu
- tidak langsung pulang ke rumah
- meletakkan sepatu sembarangan

11. **(Mat)** Perhatikan gambar berikut!



Bentuk panjang dari banyak rautan di samping adalah . . . .

- a. 1 puluhan + 3 satuan
- b. 1 puluhan + 5 satuan
- c. 1 puluhan + 7 satuan

**Isilah dengan jawaban yang benar!**

12. **(B. Ind)** Tulislah kalimat perintah yang biasa diucapkan saat melakukan kegiatan siang hari!

13. **(PPKn)** Tujuan menyimpan peralatan sekolah di tempatnya adalah \_\_\_\_\_

14. **(Mat)** Aku adalah bilangan yang kurang dari 20. Angka satuan dan puluhanku sama. Bilangan berapakah aku? \_\_\_\_\_

15. **(SBdP)** Bagaimana cara melakukan gerakan kupu-kupu?  
\_\_\_\_\_  
\_\_\_\_\_  
\_\_\_\_\_

**Catatan Guru:**