




Nama: _____

Kelas: ____ Tanggal: ____

LEMBAR PORTOFOLIO

Pembelajaran 1

1. **(B. Ind)** Amatilah gambar foto keluarga Dedi berikut! Lingkarilah yang termasuk keluarga inti Dedi!



Anggota keluarga inti adalah

2. **(SBdP)** Lengkapilah kalimat dengan kata yang tersedia!

- Ketika bernyanyi, kita menggunakan suara rendah dan suara _____.
- Suara _____ terdengar lemah.
- Suara tinggi terdengar _____.
- Tinggi dan rendahnya suara disebut _____.

nada

rendah

tinggi

melengking

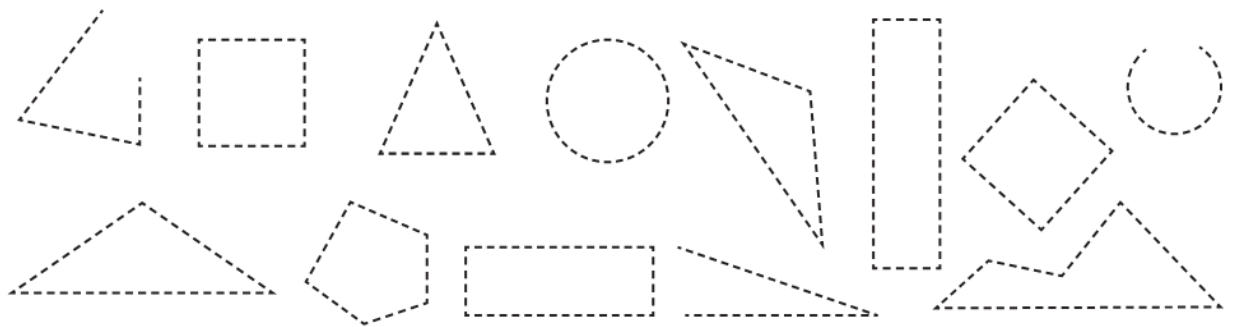
3. **(PPKn)** Berilah tanda ✓ pada sikap yang menunjukkan pengamalan sila pertama Pancasila!

- Menghormati teman yang berbeda agama.
- Berdoa sebelum tidur.
- Menghormati teman yang sedang beribadah.
- Menolong teman meskipun berbeda agama.
- Hanya berteman dengan orang yang beragama sama.


Pembelajaran 3

4. **(Mat)** Kerjakan soal-soal berikut!

a. Tebalkan dan warnailah gambar-gambar yang berbentuk segi empat, segitiga, dan lingkaran!



b. Tulislah bentuk bangun datar dari benda-benda berikut!



5. **(PPKn)** Amatilah kedua gambar berikut!



A



B

a. Tulislah pengamalan sila pertama Pancasila pada gambar A dan B!

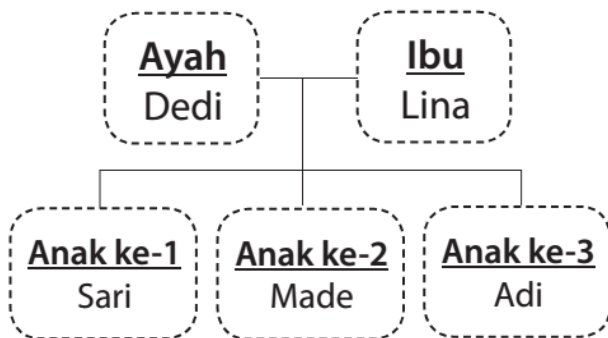
b. Tulislah dua contoh lain pengamalan sila pertama Pancasila!

10. **(PPKn)** Lambang sila Pancasila yang berbunyi Ketuhanan Yang Maha Esa adalah
- a. bintang
b. pohon beringin
c. kepala banteng
11. **(Mat)** Permukaan benda pada gambar di samping berbentuk
- a. segi empat
b. segitiga
c. lingkaran



Isilah dengan jawaban yang benar!

12. **(B. Ind)** Perhatikan silsilah keluarga berikut!



- a. Siapa nama ayah Made?

- b. Siapa nama adik Made?

- c. Anak nomor berapakah Made?

13. **(PPKn)** Tulislah dua contoh pengamalan sila pertama Pancasila!

14. **(Mat)** Tulislah dua contoh benda yang berbentuk segi empat!

15. **(SBdP)** Tulislah contoh benda di sekitarmu yang jika dibunyikan bersuara tinggi!

Catatan Guru: