



Nama: \_\_\_\_\_

Kelas: \_\_\_\_\_ Tanggal: \_\_\_\_\_

# LEMBAR PORTOFOLIO

## Pembelajaran 1

1. (PPKn) Lengkapilah aturan makan pagi di rumah berikut!

### Aturan Ketika Makan Pagi di Rumahku

Namaku \_\_\_\_\_

Biasanya, aku makan pagi bersama \_\_\_\_\_

Sebelum makan, aku mencuci \_\_\_\_\_

agar \_\_\_\_\_

Sebelum makan, aku selalu \_\_\_\_\_

sebagai ungkapan syukur kepada Tuhan.

Setelah makan, aku \_\_\_\_\_

\_\_\_\_\_

2. (B. Ind) Perhatikan gambar berikut!



Dedi, bisa bantu Ibu membawakan buku-buku ini?

a. Apa yang harus diucapkan Dedi jika ia ingin membantu ibunya?

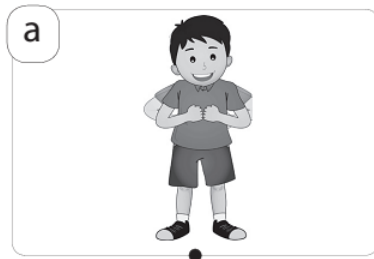
\_\_\_\_\_

\_\_\_\_\_


b. Apa yang harus diucapkan ibu jika Dedi bersedia membantu membawakan buku?

\_\_\_\_\_


3. **(SBdP)** Hubungkan gambar dan nama gerak yang tepat!



Gerak kelinci  
meloncat



Gerak ayam  
berjalan



Gerak kupu-kupu  
terbang

## Pembelajaran 2

4. **(B. Ind)** Lengkapilah kalimat-kalimat berikut sehingga menjadi sebuah percakapan!



Dedi : Ayah, bagaimana cara mengerjakan soal ini?

Bisakah Ayah \_\_\_\_\_ ?

Ayah : Tentu, Nak!

Mari, Ayah \_\_\_\_\_.

Dedi : \_\_\_\_\_.

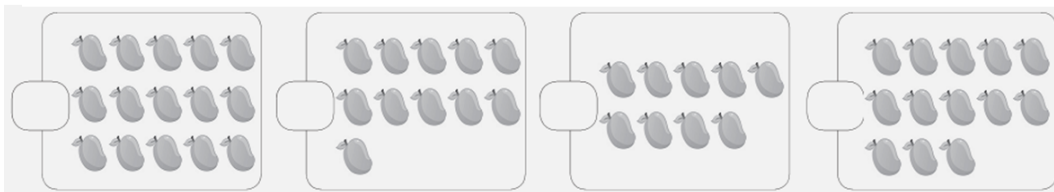
Ayah : \_\_\_\_\_.

## Pembelajaran 3

5. **(Mat)** Kerjakan soal-soal berikut!

a. Isilah kotak sesuai banyak benda pada gambar!

Selanjutnya, urutkan bilangannya!



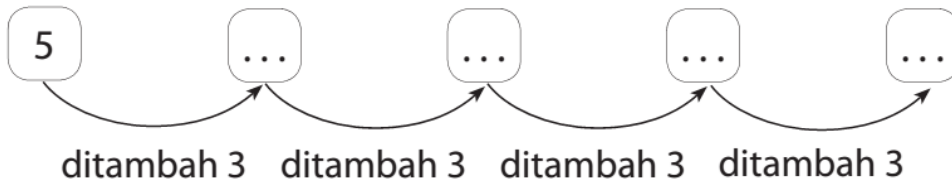
Urutan banyak mangga dari yang paling banyak adalah

---

Urutan banyak mangga dari yang paling sedikit adalah

---

b. Isilah titik-titik dengan bilangan yang tepat!



### Pembelajaran 5

6. **(B. Ind)** Lengkapilah percakapan berikut dengan kata-kata pada kotak di samping!

Fitri : Maukah Ayah \_\_\_\_\_ Fitri?  
Ayah : Tentu saja, Fitri.  
Ada apa, Nak?  
Fitri : \_\_\_\_\_ Ayah membantu Fitri belajar tentang pola bilangan?  
Ayah : Baiklah, Nak.  
Ayo, kita mulai belajar!  
Fitri : \_\_\_\_\_, Ayah.  
Ayah : \_\_\_\_\_, Nak.

Bisakah

Terima kasih

Sama-sama

menolong

### Pembelajaran 6

7. **(PPKn)** Tulislah permintaan izin yang tepat sebelum melakukan kegiatan-kegiatan berikut!

a. Berangkat ke sekolah.

\_\_\_\_\_

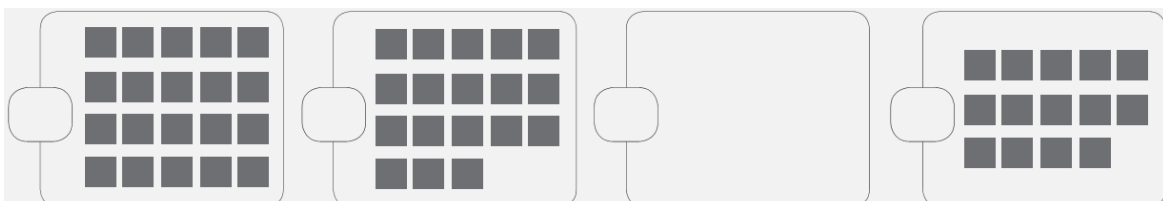
b. Bermain sepeda di lapangan.

\_\_\_\_\_

c. Pergi ke kamar kecil saat di sekolah.

\_\_\_\_\_

8. **(Mat)** Lanjutkan pola bilangan berdasarkan gambar berikut! Lengkapilah kotak kosong dengan gambar sesuai urutan!



## Lingkarilah jawaban yang benar!

9. **(B. Ind)** Setelah dibantu melakukan sesuai, kita harus mengucapkan . . .
- a. Terima kasih.
  - b. Sama-sama.
  - c. Tolong, ya.
10. **(PPKn)** Kegiatan yang sebaiknya dilakukan saat makan bersama keluarga adalah . . . .
- a. sikat gigi sebelum makan
  - b. tidak menghabiskan makanan
  - c. berdoa bersama ayah dan ibu sebelum makan
11. **(Mat)** Bilangan 11, 13, 15, dan 17 membentuk pola bilangan . . . .
- a. ditambah 1
  - b. ditambah 2
  - c. ditambah 3
12. **(SBdP)** Gerakan kelinci adalah . . . .
- a. merayap
  - b. melompat
  - c. terbang

## Isilah dengan jawaban yang benar!

13. **(B. Ind)** Tulislah ungkapan minta izin kepada guru jika kamu ingin ke kamar kecil!
- 
14. **(PPKn)** Sebelum bermain keluar rumah, sebaiknya kamu \_\_\_\_\_ kepada orang tua.
15. **(Mat)** Buatlah pola bilangan ditambah 3 mulai dari 5 sebanyak 4 bilangan!
- 

Catatan Guru: