



Nama: _____

Kelas: _____ Tanggal: _____

LEMBAR PORTOFOLIO

Pembelajaran 1

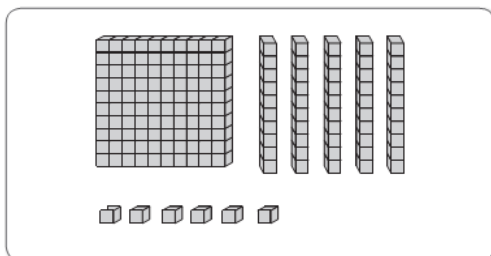
1. **(B. Ind)** Lingkarilah jawaban yang tepat.



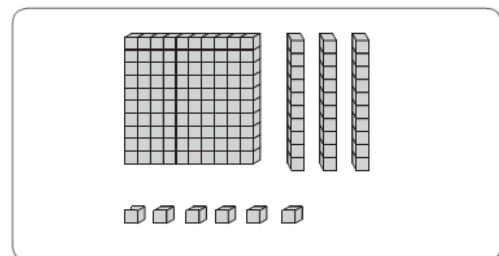
Ajakan yang diucapkan Jonas pada Dedi adalah

- a. Ajakan bermain sepeda
- b. Ajakan bermain di rumah
- c. Ajakan mengantar pulang

2. **(Mat)** Tulislah sama banyak, lebih banyak, atau lebih sedikit untuk perbandingan banya kubus berikut.



....




Pembelajaran 2

3. **(PPKn)** Berilah tanda ✓ pada pengamalan sila pertama Pancasila di tempat bermain.

	Meminta izin untuk beribadah saat bermain.
	Mempersilakan teman yang ingin beribadah.
	Berteman dengan orang lain yang berbeda agama.
	Menghormati teman yang sedang beribadah.
	Mau bekerja kelompok dengan teman yang berbeda agama.

Pembelajaran 3

4. **(SBdP)** Pasangkan gambar dengan nama gerakan yang tepat.




Gerak meniru ombak pantai

Gerak meniru tiupan angin

Pembelajaran 4

5. **(SBdP)** Lingkarilah jawaban yang tepat.



Gerakan tersebut menirukan gerakan

ombak

pohon

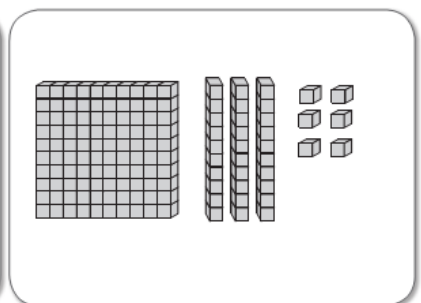
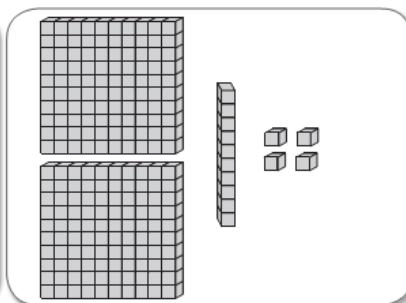
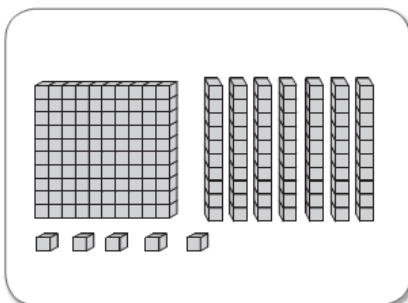
Anggota tubuh yang digerakkan adalah

tangan

kaki

6. **(Mat)** Tulislah angka sesuai banyaknya kubus.

Setelah itu, urutkan bilangan dari yang paling besar.



....

....

....

Urutan bilangan dari yang paling besar: _____, _____, _____

Pembelajaran 6

7. **(B. Ind)** Berilah tanda ✓ pada kalimat ajakan.

	Ayo, kita bermain di taman
	Toni dan Made bermain di taman
	Mari kita belajar bersama
	Nina belajar bersama di rumah Deli
	Ayo, kita menanam jagung

Lingkarilah jawaban yang tepat.

8. **(B. Ind)** Kalimat berikut yang termasuk kalimat ajakan adalah . . .

- Dedi, tolong Ibu ambilkan lap di atas meja makan.
- Maaf, Made, sepertinya aku tidak dapat ikut bermain.
- Ayo, kita kumpulkan uang untuk korban bencana alam.

9. **(B. Ind)** Jonas: _____, kita bermain bola di lapangan.
Kata ajakan yang tepat untuk melengkapi kalimat di atas adalah

- Kemarin
- Tolong
- Ayo

10. **(SBdP)** Gambar yang menunjukkan gerakan kepala adalah


a.



c.



b.



11. **(Mat)**

249

252

--

258

Bilangan yang tepat untuk mengisi kotak kosong di atas agar membentuk urutan adalah

- a. 250
- b. 255
- c. 259

12. **(PPKn)** Sila dalam Pancasila yang bermakna memiliki rasa keadilan terhadap semua teman adalah sila

- a. kedua
- b. ketiga
- c. kelima

Isilah dengan jawaban yang tepat.

13. **(B. Ind)** Tulislah dua contoh kalimat ajakan kepada teman bermain.

14. **(Mat)** 214 . . . 204
Tanda perbandingan yang tepat untuk mengisi titik-titik di atas adalah _____

15. **(PPKn)** Tulislah dua contoh pengamalan sila kedua Pancasila dengan teman bermain.

Catatan Guru:

