



Nama: \_\_\_\_\_

Kelas: \_\_\_\_\_ Tanggal: \_\_\_\_\_

## LEMBAR PORTOFOLIO

### Pembelajaran 2

1. **(B. Ind)** Ibu guru meminta para siswa membawa pakaian olahraga besok.

Buatlah kalimat perintah yang akan diucapkan ibu guru.

2. **(PPKn)** Tulislah contoh pengamalan sila pertama dan kedua Pancasila di sekolah.

### Pembelajaran 3

3. **(Mat)** Hitunglah pengurangan berikut dengan cara bersusun pendek.

a. 
$$\begin{array}{r} 350 \\ - 225 \\ \hline \end{array}$$

b. 
$$\begin{array}{r} 329 \\ - 132 \\ \hline \end{array}$$


c. 
$$\begin{array}{r} 438 \\ - 189 \\ \hline \end{array}$$

d. 
$$\begin{array}{r} 641 \\ - 215 \\ \hline \end{array}$$

4. **(SBdP)** Buatlah sketsa bebek dan pohon pada kotak berikut.

## Pembelajaran 4

5. **(B. Ind)** Tulislah kalimat perintah yang sesuai dengan gambar berikut.



Kalimat perintah:

## Pembelajaran 5


6. **(PPKn)** Berilah tanda ✓ untuk perilaku yang sesuai dengan sila ketiga Pancasila.

No.	Perilaku	Sesuai/Tidak Sesuai
1.	Berteman tanpa membeda-bedakan agama	
2.	Hanya berteman dengan orang yang sesuku	
3.	Mengajak bermain siswa baru yang berbeda suku	

## Pembelajaran 6

7. **(Mat)** Pak guru mempunyai 381 lembar kertas.  
Kertas yang sudah digunakan sebanyak 95 lembar.  
Berapa sisa kertas pak guru?

8. **(B. Ind)** Tulislah kalimat perintah yang sesuai dengan gambar berikut.



**Lingkarilah jawaban yang benar.**

9. **(B. Ind)** Kalimat berikut yang termasuk perintah adalah . . .

- a. Jagalah kerukunan dengan teman di sekolah!
- b. Ayo, berangkat ke sekolah.
- c. Di mana kamu bersekolah?

10. **(SbdP)** Huruf di samping menggunakan jenis garis . . . .

- a. lurus
- b. lengkung
- c. zig-zag

**Z**

11. **(Mat)** Hasil penjumlahan berikut yang benar adalah . . . .

- a.  $352 + 218 = 560$
- b.  $253 + 375 = 528$
- c.  $235 + 265 = 500$

12. **(PPKn)** Perilaku di sekolah yang sesuai dengan sila ketiga Pancasila adalah . . . .

- a. berdoa sebelum makan
- b. bermusyawarah memilih ketua kelas
- c. berteman dengan siswa yang berbeda suku


**Isilah dengan jawaban yang benar.**

13. **(B. Ind)** Buatlah dua contoh kalimat perintah yang biasa diucapkan di sekolah.

---

---

14. **(SbdP)** Apa yang harus disiapkan ketika membuat gambar imajinatif? \_\_\_\_\_  
Buatlah sebuah sketsa gambar imajinatif.  
Tebalkan gambarmu dan warnailah.



15. **(Mat)** Di sekolah Dedi terdapat 153 siswa laki-laki. Selisih banyak siswa laki-laki dan perempuan adalah 25 orang. Berapa banyak siswa perempuan?

---

---

**Catatan Guru:**

