



Nama: _____

Kelas: _____ Tanggal: _____

LEMBAR PORTOFOLIO

Pembelajaran 1

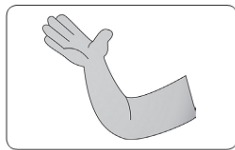
1. **(Mat)** Kerjakan soal-soal berikut!

a. Hubungkan kumpulan uang yang nilainya setara!

| | | |
|-------|-----|-------|
| | | |
| 1.200 | 800 | 2.500 |

b. Dedi menukarkan uang Rp5.000,00 dengan uang logam Rp500,00. Berapa keping uang logam yang diterima Dedi? _____

2. **(SBdP)** Berilah tanda ✓ pada gerak dasar tari dari anggota tubuh berikut!



- | | | |
|----------------------------------|--------------------------------|----------------------------------|
| <input type="radio"/> melompat | <input type="radio"/> menoleh | <input type="radio"/> mengangguk |
| <input type="radio"/> menggeleng | <input type="radio"/> mengayun | <input type="radio"/> menjentik |
| <input type="radio"/> melambai | <input type="radio"/> berlutut | <input type="radio"/> berjinjit |

Pembelajaran 2

3. **(PPKn)** Kelompokkan nama siswa pada gambar berikut ke dalam kelompok putra dan putri!



Dedi



Fitri



Komang



Jonas

| Putra | Putri |
|-------|-------|
| | |

Bagaimana sikap yang baik kepada teman?

4. **(B. Ind)** Bacalah teks berikut dengan saksama!

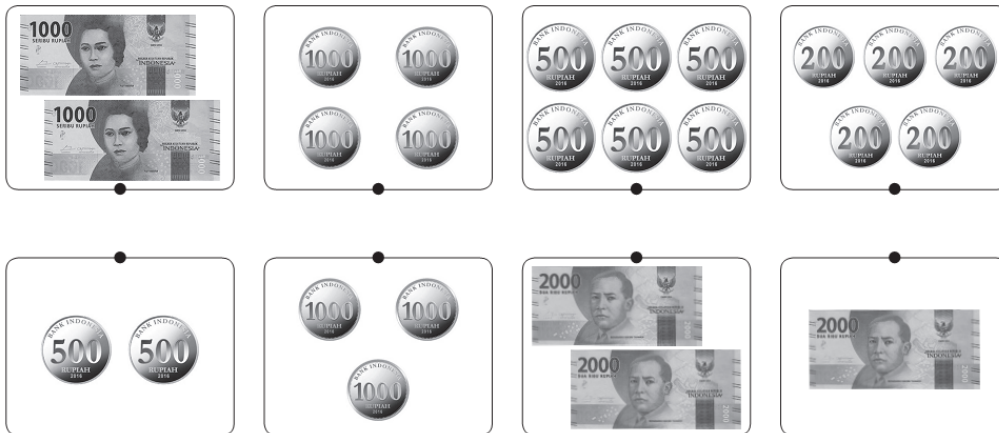
Kelompok belajar Udin melakukan **diskusi**.
 Setiap anggota menyatakan **pendapat**.
 Mereka saling menghargai pendapat teman.
 Mereka selalu **rukun** dan saling menghormati.

Tuliskan arti kata yang dicetak tebal pada tabel berikut!

| No. | Kata | Arti |
|-----|------|------|
| | | |
| | | |
| | | |
| | | |

Pembelajaran 4

5. **(Mat)** Hubungkan kelompok uang yang bernilai setara!
 Selanjutnya, urutkan nilai setiap kelompok mulai dari yang terkecil!



Urutan dari yang terkecil: _____

Pembelajaran 5

6. **(PPKn)** Perhatikan cerita berikut!

Dayu dan Lani memiliki kegemaran yang berbeda.
 Dayu gemar membaca buku cerita.
 Lani gemar menggambar.

Apa yang sebaiknya dilakukan agar Dayu dan Lani dapat melakukan kegiatan bersama? _____

7. **(B. Ind)** Buatlah cerita berdasarkan gambar seri berikut! Gunakan kosakata yang telah kamu ketahui maknanya!




Pembelajaran 6

8. **(Mat)** Berikut harga beberapa jenis barang.

| Es Krim | Susu | Pastel | Donat | Roti |
|------------|------------|------------|------------|-----------|
| Rp3.000,00 | Rp4.000,00 | Rp1.000,00 | Rp2.000,00 | Rp5.000,- |

Pasangkan gambar barang dengan harga yang sesuai!



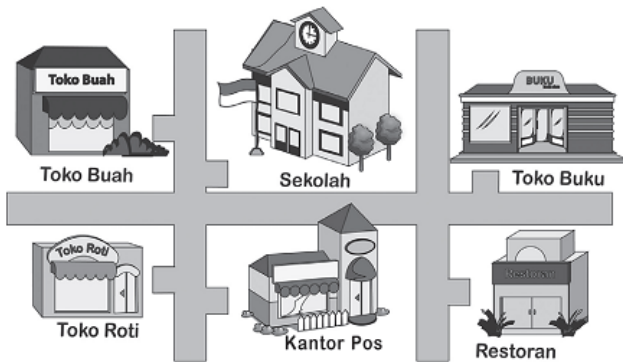
Urutkan harga barang dari yang termahal!

Lingkarilah jawaban yang benar!

9. **(Mat)** Nilai uang yang setara dengan uang pada gambar di samping adalah
- tiga keping uang Rp500,00
 - dua lembar uang Rp1.000,00
 - satu lembar uang Rp1.000,00



10. **(B. Ind)** Amatilah gambar berikut!



Bangunan yang terletak di depan sekolah adalah

- a. toko buah
- b. restoran
- c. toko roti

11. **(SBdP)** Contoh gerakan yang dilakukan menggunakan tangan adalah

- a. menggeleng
- b. melompat
- c. melambai

Isilah dengan jawaban yang benar!

12. **(B. Ind)** Buatlah kalimat menggunakan kata *menolong*!

13. **(Mat)** Tulislah tiga kelompok uang yang setara dengan uang Rp1.000,00!

14. **(SBdP)** Gerakan melangkah ke depan dan ke belakang dilakukan menggunakan _____

15. **(PPKn)** Sebuah kelas terdiri atas siswa dengan beragam suku bangsa dan agama. Apa yang harus dilakukan para siswa agar kerukunan tetap terjaga?

Catatan Guru: