



Nama: _____

Kelas: _____ Tanggal: _____

LEMBAR PORTOFOLIO

Pembelajaran 1

1. **(Mat)** Kerjakan soal-soal berikut!

a. Tulislah kelompok pecahan uang yang nilainya setara dengan pecahan uang berikut!

(1) Rp800,00 = _____

(2) Rp1.000,00 = _____

b. Tulislah pecahan yang dapat kamu peroleh jika kamu menukar uang Rp5.000,00!

2. **(SBdP)** Lengkapilah langkah-langkah membuat gambar imajinatif berikut dengan kata yang tersedia!

a. Siapkan _____, alat tulis, dan alat mewarnai.

b. Buatlah _____ di kertas gambar.

c. Tebalkan _____ pada sketsa.

d. _____ gambar menggunakan pensil warna atau krayon.

sketsa

warnailah

kertas gambar

garis

Pembelajaran 3

3. **(B. Ind)** Amatilah gambar berikut!



a. Tulislah tiga kata berdasarkan gambar di samping!

Kaitkan dengan budaya di Indonesia!

- b. Buatlah kalimat menggunakan kata-kata yang telah kamu tulis!

4. **(Mat)** Perhatikan gambar-gambar berikut!





			
Rp600,00	Rp500,00	Rp900,00	Rp700,00

Kerjakan soal-soal berikut sesuai gambar!

- a. Urutkan harga mulai dari yang paling murah!

- b. Benda apa yang lebih mahal dari permen bertangkai?

- c. Apa saja benda yang dapat dibeli dengan uang Rp1.800,00? Tulislah dalam tabel berikut!

				Jumlah Harga

Pembelajaran 4

5. **(PPKn)** Bacalah cerita berikut dengan saksama!

Di kelas Dedi terdapat keberagaman agama. Meskipun demikian, siswa-siswa di kelas Dedi selalu kompak. Mereka saling menghargai dan menghormati. Saling menghormati antarpemeluk agama dapat menciptakan kerukunan.

- a. Apa saja agama yang ada di Indonesia?

b. Apa manfaat sikap toleransi terhadap teman yang berbeda agama?

c. Bagaimana sikap yang tepat terhadap teman yang berbeda agama?

Pembelajaran 5

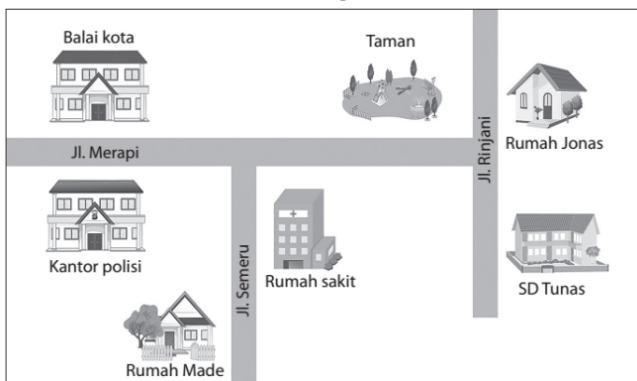
6. **(PPKn)** Tulislah sikap yang tepat ketika menghadapi kejadian-kejadian berikut!

a. Hanif dan Made adalah teman satu kelas. Ketika bermain dengan Hanif, Made jatuh dan terluka. Bagaimana sebaiknya sikap Hanif?

b. Sudah tiga hari Made tidak masuk sekolah. Made sedang dirawat di rumah sakit. Apa yang sebaiknya dilakukan teman-teman sekelas Made?

Pembelajaran 6

7. **(B. Ind)** Amatilah gambar berikut!



Tulislah rute perjalanan dari rumah Made ke rumah Jonas!

Lingkarilah jawaban yang benar!

8. **(B. Ind)** Komang anak yang baik. Ketika temannya sakit, ia datang

- a. mengawasinya
- b. menyalaminya
- c. menjenguknya

9. **(Mat)** Kelompok pecahan uang yang nilainya sama dengan Rp600,00 adalah

a.



c.



b.



10. **(SBdP)** Berikut yang *bukan* merupakan alat menggambar imajinatif adalah

a. lem

c. pensil warna

b. krayon

Isilah dengan jawaban yang benar!

11. **(B. Ind)** Buatlah kalimat menggunakan kata *gotong royong!*

12. **(Mat)** Tulislah dua kemungkinan kelompok pecahan uang yang senilai dengan Rp6.000,00!

13. **(SBdP)** Rancangan gambar yang dibuat sebelum proses mewarnai disebut _____

14. **(PPKn)** Sikap baik terhadap teman yang berbeda agama dapat menjaga _____

15. **(PPKn)** Tulislah dua contoh caramu mengucapkan salam kepada gurumu!

Catatan Guru: