



Nama: _____

Kelas: _____ Tanggal: _____

LEMBAR PORTOFOLIO

Pembelajaran 1

1. **(SBdP)** Kerjakan soal-soal berikut!

a. Tulislah banyaknya ketukan dari nada-nada berikut!

(1) 2

(2) 3 .

(3) 4 . 0

b. Tulislah arti dari birama-birama berikut!

(1) $2/4 =$ _____

(2) $3/4 =$ _____

2. **(Mat)** Tulislah benda-benda di sekitarmu yang permukaannya berbentuk segi empat atau segitiga!

Tulislah banyak ruas garisnya!

No.	Nama Benda	Bentuk Permukaan	Ruas Garis

Pembelajaran 2

3. **(PPKn)** Amatilah gambar berikut!



a. Apakah kegiatan pada gambar menunjukkan persatuan dalam keluarga? Mengapa? _____

b. Tulislah satu kegiatan bersama keluarga yang pernah kamu lakukan!

Pembelajaran 3

4. **(B. Ind)** Bacalah percakapan pada gambar berikut!



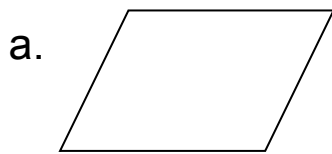
- a. Mengapa di sekitar Tikus ada banyak makanan? _____

- b. Apakah lingkungan pada gambar termasuk lingkungan bersih dan sehat? Jelaskan! _____

c. Tulislah sebuah paragraf menggunakan kata-kata **bersih, lingkungan, dan sampah!**

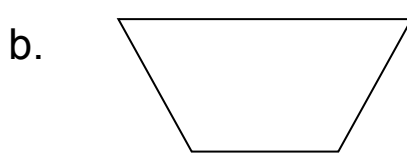
5. **(Mat)** Tulislah nama-nama bangun datar berikut!

Tulislah banyak ruas garisnya!



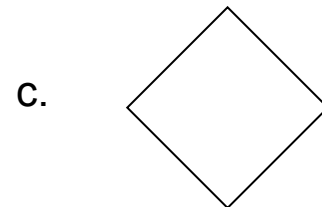
Nama bangun datar:

Banyak ruas garis:



Nama bangun datar:

Banyak ruas garis:



Nama bangun datar:

Banyak ruas garis:

Pembelajaran 5

6. **(B. Ind)** Amatilah gambar berikut!



a. Buatlah tiga pertanyaan berdasarkan gambar di samping!

- b. Buatlah laporan pengamatan sederhana berdasarkan gambar tersebut!

Laporan Pengamatan Gambar	
Tema gambar	: _____
Tokoh dalam gambar	: _____
Cerita dalam gambar	:

Pembelajaran 6

7. **(PPKn)** Kerjakan soal-soal berikut!

a. Tulislah satu kegiatan yang pernah kamu lakukan bersama keluarga di rumah!

b. Apa manfaat sikap bersatu dalam kegiatan itu?

c. Apa yang terjadi jika tidak ada sikap bersatu dalam kegiatan itu? _____

Lingkarilah jawaban yang benar!

8. **(B. Ind)** Cara untuk mendapatkan informasi berdasarkan gambar adalah

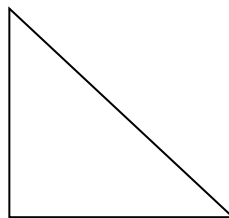
- a. melihat gambar sekilas
- b. mengamati gambar dengan cermat dan teliti
- c. melihat benda-benda yang menarik pada gambar

9. **(PPKn)** Contoh kegiatan yang menunjukkan persatuan dalam menjaga kebersihan di rumah adalah

- a. Komang membantu ibu mencuci piring
- b. Dedi mengerjakan tugas bersama Jonas
- c. Soni tidak merapikan mainan selesai bermain

10. **(Mat)** Bangun datar di samping memiliki . . . ruas garis.

- a. 2
- b. 3
- c. 4



11. **(SBdP)** Pada lagu "Bersih dan Sehat" terdapat nada 2 4. Arti dari nada 2 4 adalah

- a. tiap-tiap nada 2 dan 4 dinyanyikan setengah ketukan
- b. tiap-tiap nada 2 dan 4 dinyanyikan satu ketukan
- c. tiap-tiap nada 2 dan 4 dinyanyikan dua ketukan

Isilah dengan jawaban yang benar!

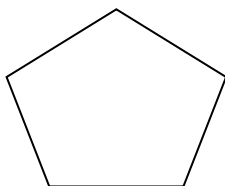
12. **(B. Ind)** Perhatikan gambar berikut!



Tuliskan manfaat dari kegiatan pada gambar!

13. **(PPKn)** Tuliskan contoh sikap yang harus dimiliki untuk mewujudkan persatuan di rumah!

14. **(Mat)** Tuliskan banyak sisi, sudut, dan titik sudut dari bangun datar berikut!



Banyak sisi : _____
Banyak sudut : _____
Banyak titik sudut : _____

15. **(SBdP)** Panjang pendeknya nada dalam sebuah lagu disebut _____

Catatan Guru: