



Nama: \_\_\_\_\_

Kelas: \_\_\_\_\_ Tanggal: \_\_\_\_\_





## LEMBAR PORTOFOLIO

### Pembelajaran 1

1. **(B. Ind)** Pasangkan kata di sebelah kiri dengan arti yang tepat!

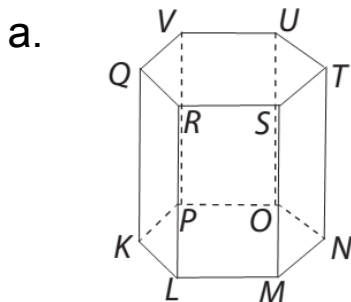
asri ●	● tempat bermain anak
bersih ●	● terasa agak dingin dan segar
sejuk ●	● bebas dari kotoran
taman ●	● indah dan sedap dipandang mata

2. **(SBdP)** Pasangkan gambar alat menggambar dengan kegunaannya!

			
●	●	●	●
● meraut pensil	● mewarnai gambar	● membuat garis tepi atau sketsa	● tempat menggambar

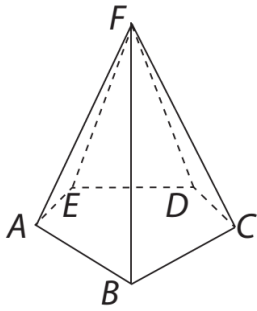
### Pembelajaran 3

3. **(Mat)** Tuliskan semua ruas garis pada bangun ruang berikut!



Ruas garis:

b.



Ruas garis:

4. **(B. Ind)** Amatilah gambar berikut!



a. Tuliskan lima kata yang berkaitan dengan gambar di samping!

---



---



---

b. Lengkapilah laporan pengamatan berikut berdasarkan gambar di atas!

Taman di dekat rumahku terlihat \_\_\_\_\_

Di taman ada banyak tumpukan \_\_\_\_\_

Sampah menyebarkan bau \_\_\_\_\_

Banyak \_\_\_\_\_ beterbangan di dekat sampah.

Taman yang kotor dapat menyebarkan \_\_\_\_\_

### Pembelajaran 4

5. **(Mat)** Tulislah nama bangun ruang dari benda berikut! Lengkapilah keterangannya!

a.



Nama bangun ruang :

---

Banyak rusuk : \_\_\_\_\_

Banyak sisi : \_\_\_\_\_

Banyak titik sudut : \_\_\_\_\_

b.



Nama bangun ruang :

---

Banyak rusuk : \_\_\_\_\_

Banyak sisi : \_\_\_\_\_

Banyak titik sudut : \_\_\_\_\_

## Pembelajaran 5

6. **(PPKn)** Berilah tanda ✓ pada sikap yang harus dilakukan untuk menciptakan persatuan!

<input type="checkbox"/>	Gemar menolong teman yang kesulitan.
<input type="checkbox"/>	Hanya berteman dengan orang yang sesuku.
<input type="checkbox"/>	Mau bekerja sama dengan orang lain.
<input type="checkbox"/>	Tidak mau menerima kekalahan.
<input type="checkbox"/>	Jujur dan tidak curang ketika bermain.

## Pembelajaran 6

7. **(PPKn)** Perhatikan gambar berikut!



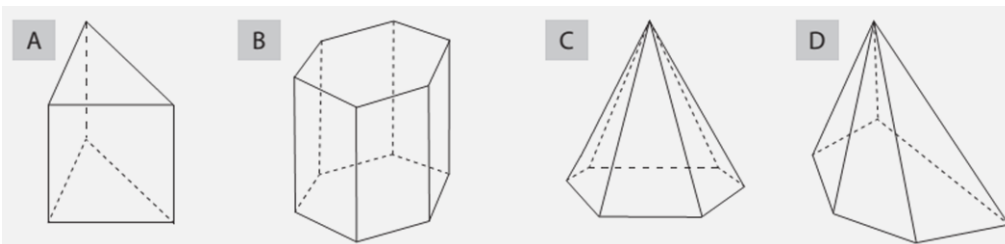
- a. Apa nama permainan yang tampak pada gambar? \_\_\_\_\_
- b. Apakah permainan tersebut memerlukan persatuan? \_\_\_\_\_

c. Apa manfaat persatuan pada permainan tersebut?

d. Apa akibatnya jika tidak ada persatuan pada permainan tersebut? \_\_\_\_\_

8. **(Mat)** Hitunglah banyak sisi, rusuk, dan titik sudut beberapa bangun ruang berikut!

Selanjutnya, lengkapilah keterangan yang ada!



Bangun ruang yang mempunyai banyak sisi sama: \_\_\_\_\_

Bangun ruang yang mempunyai banyak rusuk sama: \_\_\_\_\_


Bangun ruang yang mempunyai banyak titik sudut sama: \_\_\_\_\_

**Lingkarilah jawaban yang benar!**

9. **(B. Ind)** Arti kata **asri** yang tepat adalah . . . .

- a. indah dan sedap dipandang mata
- b. alami dan sesuai dengan aslinya
- c. bebas dari kotoran

10. **(SBdP)** Perhatikan gambar berikut!

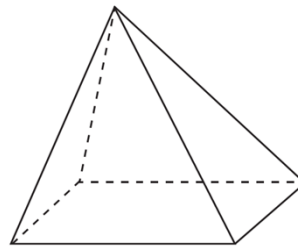


Alat untuk mewarnai gambar di samping adalah . . . .

- a. krayon
- b. cat air
- c. spidol warna

11. **(Mat)** Banyak rusuk pada bangun ruang di samping adalah . . . .

- a. 8
- b. 10
- c. 12



**Isilah dengan jawaban yang benar!**

12. **(B. Ind)** Ciri-ciri lingkungan tempat bermain yang bersih dan aman adalah \_\_\_\_\_

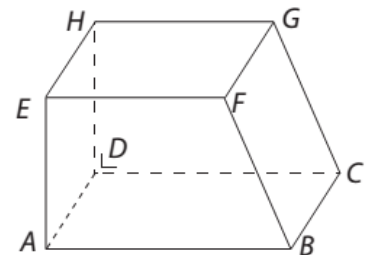
13. **(SBdP)** Langkah sebelum mewarnai gambar adalah membuat \_\_\_\_\_

14. **(Mat)** Tentukan banyak sisi, rusuk, dan titik sudut dari bangun ruang di samping!

\_\_\_\_\_

\_\_\_\_\_

\_\_\_\_\_



15. **(PPKn)** Kelompokmu kalah ketika bermain. Sikapmu sebaiknya \_\_\_\_\_

**Catatan Guru:**