



Nama: \_\_\_\_\_

Kelas: \_\_\_\_\_ Tanggal: \_\_\_\_\_

# LEMBAR PORTOFOLIO

## Pembelajaran 1

1. **(B. Ind)** Bacalah teks berikut dengan saksama!

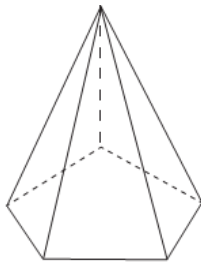
Hutan kota adalah hutan yang terletak di daerah perkotaan.  
Hutan kota memiliki banyak manfaat.  
Hutan kota dapat mengurangi polusi udara.  
Hutan kota membuat lingkungan menjadi asri.  
Hutan kota dapat dijadikan tempat wisata.  
Hutan kota dapat dijadikan tempat berolahraga.

Lingkarilah pernyataan yang sesuai dengan isi teks!

- a. Hutan kota berada di perkotaan.
- b. Hutan kota menambah polusi udara.
- c. Hutan kota dapat dijadikan tempat wisata.
- d. Udara di hutan kota bersih dan segar.
- e. Hutan kota berguna untuk bercocok tanam.

2. **(Mat)** Berilah tanda ✓ pada unsur bangun ruang yang tepat sesuai gambar!

a.



Sisi: 6 Rusuk: 10 Titik sudut: 6
--



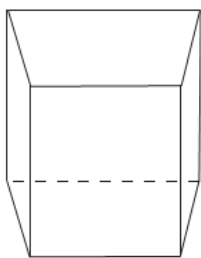
Sisi: 6 Rusuk: 12 Titik sudut: 6
--



Sisi: 5 Rusuk: 10 Titik sudut: 6
--



b.



Sisi: 6 Rusuk: 10 Titik sudut: 8
--



Sisi: 6 Rusuk: 12 Titik sudut: 6
--



Sisi: 6 Rusuk: 12 Titik sudut: 8
--



## Pembelajaran 2

3. **(B. Ind)** Amatilah gambar berikut!



a. Tulislah delapan kata yang berkaitan dengan gambar di samping!


---

---

---

b. Tulislah laporan sederhana sesuai gambar di atas!

4. **(PPKn)** Amatilah gambar berikut!



a. Tulislah tiga sikap yang harus dimiliki agar terwujud kerja sama dalam permainan tersebut!

---

---

---

b. Tulislah dua contoh kegiatan yang menunjukkan kerja sama dengan teman!

---

---

## Pembelajaran 3

5. **(SBdP)** Kerjakan soal-soal berikut!

a. Warnailah bahan membuat karya seni yang termasuk bahan buatan!

Manik-manik

Stik es krim

Daun kering

Kulit telur

Sedotan

Biji jagung

Plastisin

Kain perca

b. Amatilah gambar berikut!



Buku harian dengan hiasan dari sedotan.

Apa saja alat dan bahan yang diperlukan untuk membuat karya tersebut?

---

---

---

## Pembelajaran 5

6. (PPKn) Kerjakan soal-soal berikut!

a. Tulislah dua sikap yang harus dimiliki agar terwujud kebersamaan di masyarakat!

---

---

b. Tulislah dua contoh kegiatan yang menunjukkan kebersamaan di lingkungan masyarakat!

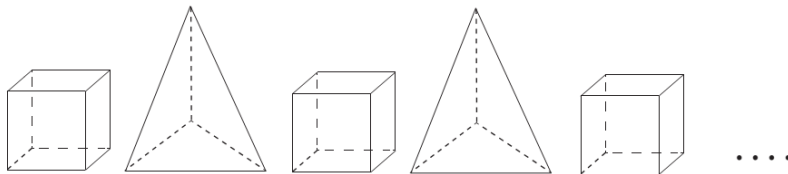
---

---

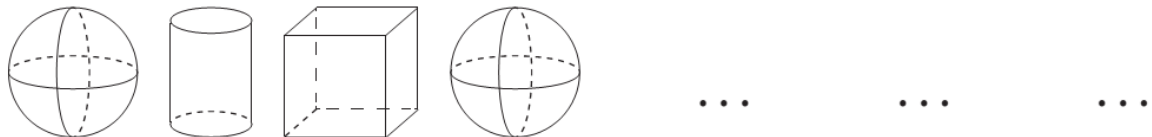
## Pembelajaran 6

7. (Mat) Lengkapilah pola bangun ruang berikut!

a.



b.



Lingkarilah jawaban yang benar!

8. (B. Ind) Arti kosakata *sampah organik* adalah . . . .

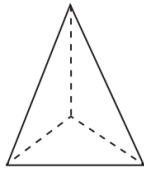
- a. sampah yang berasal dari benda tak hidup
- b. sampah yang berasal dari makhluk hidup
- c. benda yang sudah tidak terpakai

9. **(SBdP)** Bahan alam yang dapat digunakan untuk membuat kerajinan adalah . . . .

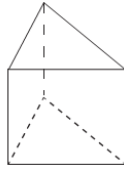
- a. biji jagung
- b. manik-manik
- c. kain perca

10. **(Mat)** Bangun ruang yang memiliki 5 sisi, 9 rusuk, dan 6 titik sudut adalah . . . .

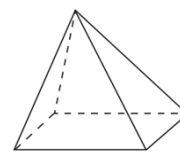
a.



b.



c.



11. **(PPKn)** Kegiatan yang dapat membentuk rasa persatuan di lingkungan masyarakat adalah . . . .

- a. menemani adik belajar
- b. kerja bakti di balai desa
- c. membersihkan rumah bersama ibu

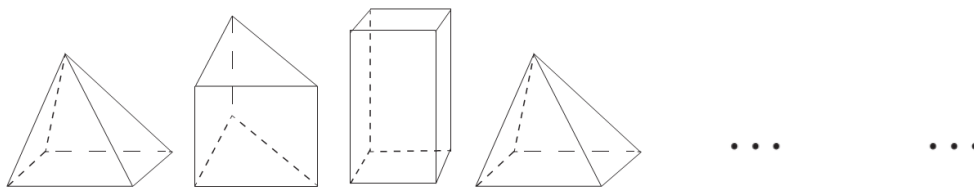
**Isilah dengan jawaban yang benar!**

12. **(B. Ind)** Pengolahan kembali suatu benda hingga menjadi benda yang lebih berguna disebut \_\_\_\_\_

13. **(SBdP)** Tulislah tiga contoh kerajinan yang dapat dibuat dari bahan dasar manik-manik!

\_\_\_\_\_

14. **(Mat)** Gambarlah bangun ruang berikutnya sesuai pola berikut!



15. **(PPKn)** Apa akibat tidak adanya kebersamaan di lingkungan masyarakat? \_\_\_\_\_

\_\_\_\_\_

**Catatan Guru:**