



Nama: _____

Kelas: _____ Tanggal: _____

LEMBAR PORTOFOLIO

Pembelajaran 1

1. **(SBdP)** Pasangkan antara gambar dan arah gerakan yang tepat.



Gerak tangan ke kanan
atas dan kiri atas.



Gerak tangan ke depan
dan ke belakang.



Gerak tangan ke atas
dan bawah.

2. **(Mat)** Tulislah jenis timbangan yang digunakan berdasarkan cerita berikut.

- a. Paman membeli 3 kg daging ayam di pasar.

Timbangan yang digunakan oleh pedagang adalah _____

- b. Bibi berbelanja 3 kg sayur kol di swalayan.

Timbangan yang biasa digunakan adalah _____

- c. Ayah membeli satu karung beras di pasar.

Satu karung beras beratnya 100 kg.

Timbangan yang digunakan adalah _____

Pembelajaran 2

3. **(B. Ind)** Lingkarilah penggunaan huruf kapital yang tidak tepat dalam teks berikut.

deni memelihara seekor Kura-Kura.

Setiap hari, kura-kura peliharaannya diberi makan.

Deni memberinya Sayur dan sisa buah-buahan.

Tak lupa deni membersihkan kandangnya.

Kandang kura-kura perlu dibersihkan secara rutin.

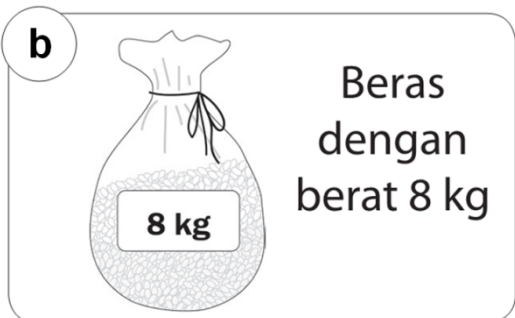

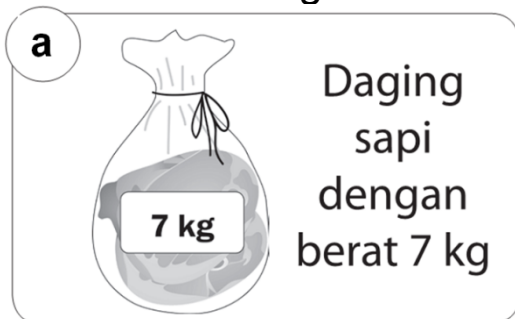
Kandang yang Bersih mencegah kura-kura terserang penyakit.

4. **(PPKn)** Berilah tanda centang (✓) pada aturan yang ada di sekolahmu.

	Datang ke sekolah sebelum bel masuk berbunyi.
	Memakai seragam yang bersih dan rapi.
	Tidak membeli jajanan di luar sekolah.
	Mengikuti upacara bendera setiap hari Senin.
	Menggunting kuku secara rutin.

Pembelajaran 3

5. **(Mat)** Gambarlah dua cara mengukur benda-benda berikut menggunakan anak timbangan 1 kg dan 2 kg dengan benar di buku tugasmu.



Pembelajaran 5

6. **(PPKn)** Apakah tindakan-tindakan berikut sesuai **(S)** atau tidak sesuai **(TS)** dengan aturan perpustakaan sekolah? Lingkarilah pilihanmu.

Tulislah manfaat atau kerugian melakukan tindakan tersebut.


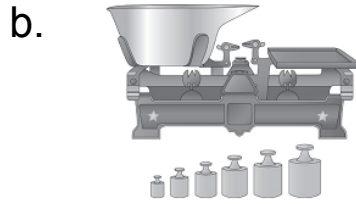
- a. Duduk tenang saat membaca buku. **[S / TS]**

Manfaat atau kerugian: _____

- b. Melapor kepada petugas perpustakaan jika ingin meminjam buku. **[S / TS]**

Manfaat atau kerugian: _____

10. **(Mat)** Jenis timbangan yang biasa digunakan untuk menimbang buah di pasar swalayan adalah



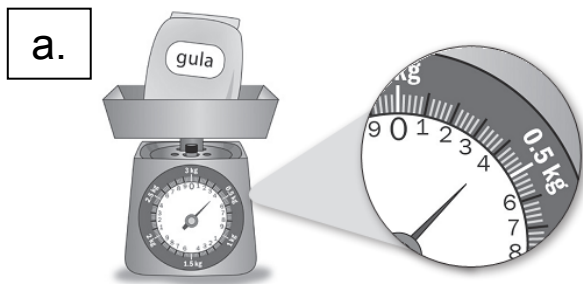
Isilah dengan jawaban yang benar.

11. **(B. Ind)** Tulislah kembali kalimat berikut menggunakan huruf tegak bersambung dan huruf kapital yang tepat.

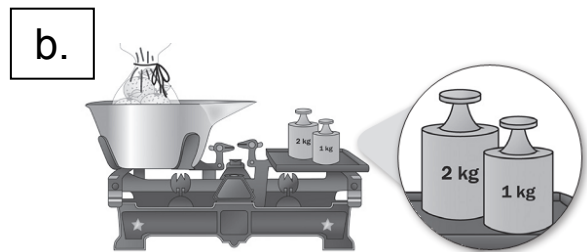
Kucing made berwarna hitam.

12. **(PPKn)** Jika tata tertib dipatuhi oleh semua warga sekolah, kegiatan belajar akan berjalan _____

13. **(Mat)** Tulislah berat benda sesuai gambar.



Berat benda = _____



Berat benda = _____

14. **(SBdP)** Gerakan mengepakkan tangan merupakan gerak meniru hewan, yaitu _____

15. **(SBdP)** Bagian tubuh yang paling aktif digerakkan pada gerak melompat katak adalah _____

Catatan Guru: