



Nama: \_\_\_\_\_

Kelas: \_\_\_\_\_ Tanggal: \_\_\_\_\_

## LEMBAR PORTOFOLIO

### Pembelajaran 1

1. **(SBdP)** Kerjakan soal-soal berikut.
  - a. Tuliskan contoh bahan alam di sekitarmu yang dapat digunakan untuk membuat hiasan.

---


- b. Tuliskan jenis bahan alam yang digunakan untuk membuat hiasan pada gambar-gambar di samping.

a: \_\_\_\_\_

b: \_\_\_\_\_



a



b

### Pembelajaran 2

2. **(B. Ind)** Bacalah cuplikan fabel berikut.

#### Tupai dan Lebah

“Sedang apa kamu di rumahku, Lebah?” tanya Tupai.

“Aku sedang mencari makanan, Tupai.

Di pohon ini ada banyak sekali bunga.

Bunga-bunga itu menyimpan banyak makananku,” jawab Lebah.

“Tetapi, pohon ini rumahku.

Kalau kamu makan di sini, rumahku bisa rusak,” ucap Tupai.

“Aku tidak merusak pohon ini.

Kalau aku makan di sini, aku bisa membantu pohon ini lebih cepat berbuah,” ucap Lebah.

- a. Siapa sajakah hewan yang terdapat dalam fabel?


---

- b. Tuliskan kata sapaan pada fabel tersebut.

Kata Sapaan	Tokoh yang Mengucapkan


## Pembelajaran 3

3. **(Mat)** Kerjakan soal-soal berikut.
- a. Lingkarilah sepertiga bagian dari banyak mangga berikut.



Jadi, sepertiga bagian dari 15 mangga adalah \_\_\_\_\_ mangga.

- b. Lingkarilah seperempat bagian dari banyak salak berikut.



Jadi, seperempat bagian dari 12 salak adalah \_\_\_\_\_ salak.

4. **(PPKn)** Pilihlah sikap yang baik dalam menyikapi keberagaman tempat wisata.

- a. Beni bercerita kepada Jonas tentang tempat wisata yang dikunjungi keluarganya. Jonas tidak begitu menyukai tempat wisata itu.

Sikap Jonas sebaiknya: \_\_\_\_\_

Alasan jawaban: \_\_\_\_\_

- b. Kelas Lani melakukan pemungutan suara untuk menentukan tempat wisata yang akan dikunjungi. Ternyata, tempat wisata pilihan Lani tidak banyak mendapat suara.

Sikap Lani sebaiknya: \_\_\_\_\_

Alasan jawaban: \_\_\_\_\_

## Pembelajaran 4

5. **(PPKn)** Lengkapilah kalimat berikut dengan pilihan jawaban yang tepat.

- a. Dian berasal dari Sumatra Utara.

Suku bangsa Dian adalah \_\_\_\_\_

- b. Suku bangsa teman baru Beni adalah suku Dani.

Teman Beni berasal dari daerah \_\_\_\_\_

- c. Suku asli yang hidup di pedalaman Banten adalah suku \_\_\_\_\_

- d. Paman Dedi berasal dari daerah Sulawesi Selatan.

Suku bangsa paman Dedi adalah suku \_\_\_\_\_

Papua

Badui

Bugis

Karo

6. **(B. Ind)** Bacalah cuplikan fabel berikut.

“Teman-teman, sekarang kita bekerja sama membawa buah-buahan ini ke sarang ya,”ucap Ketua Semut.  
“Siap, Ketua,”jawab kawan-an Semut serempak.  
Belalang yang selalu melakukan segala hal sendiri, iri melihat kekompakan Semut.  
Belalang pun berusaha menghalangi kawan-an Semut dengan menaruh ranting di tengah jalan.  
Ketua Semut yang berjalan paling depan berhenti karena melihat ada ranting yang menghalangi jalan.  
“Teman-teman, di depan ada ranting.  
Nanti kita ambil jalan di sebelah kiri, ya,”ucap Ketua Semut.

a. Tulislah kata sapaan yang terdapat dalam kutipan fabel di atas.

b. Buatlah dua kalimat menggunakan kata sapaan sesuai jawabanmu pada soal nomor 1.

## Pembelajaran 6

7. **(Mat)** Kerjakan soal-soal berikut.

a. Ibu membeli 10 bungkus cokelat.

Setengah bagian dari cokelat tersebut diberikan kepada Siti.

Berapa bungkus cokelat yang diberikan kepada Siti?

b. Edo memiliki 12 butir kelereng.

Edo memberikan sepertiga bagian dari kelerengnya kepada adiknya.

Berapa butir kelereng milik Edo yang berkurang?

### Isilah dengan jawaban yang benar.

8. **(PPKn)** Tulislah dua contoh tempat wisata yang ada di Indonesia.

9. **(PPKn)** Apa tempat wisata kegemaranmu? \_\_\_\_\_

Apa alasanmu menyukai tempat wisata itu? \_\_\_\_\_

Bacalah cuplikan fabel berikut  
untuk menjawab soal nomor 10 dan 11.


Di suatu hutan hiduplah seekor  
berang-berang bernama Rangi dan  
seekor kelinci bernama Cici.  
Rangi dan Cici bersahabat baik.  
Di mana Rangi berada, di sana pasti ada Cici.  
"Ci, hari ini panas sekali ya.  
Kita bermain di sungai, yuk," ajak Rangi.  
"Maaf, aku tunggu di tepi sungai saja," jawab Cici.

10. **(B. Ind)** Rangi dan Cici hidup di \_\_\_\_\_

11. **(B. Ind)** Tambahkan kata sapaan yang  
sesuai pada percakapan berikut.

"Aku ingin sekali, tetapi aku tidak bisa, \_\_\_\_\_"  
ucap Cici dengan wajah murung.  
"Oh begitu, bagaimana kalau kita  
membuat rakit, \_\_\_\_\_?" ajak Rangi.

12. **(Mat)** Bagian yang diarsir pada  
gambar di samping dapat dinyatakan  
dengan pecahan \_\_\_\_\_



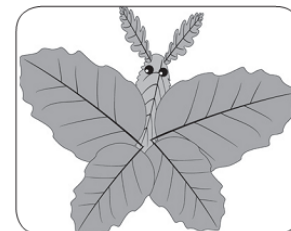
13. **(Mat)** Ibu memiliki persediaan 24 butir telur.  
Tentukan:  
a. Setengah bagiannya.

\_\_\_\_\_

b. Seperempat bagiannya.

\_\_\_\_\_

14. **(SBdP)** Karya hiasan pada gambar  
di samping terbuat dari \_\_\_\_\_



15. **(SBdP)** Tulislah dua contoh bahan alam  
dari hewan untuk membuat hiasan.

\_\_\_\_\_  
\_\_\_\_\_

Catatan Guru: