



Nama: _____

Kelas: _____ Tanggal: _____

LEMBAR PORTOFOLIO

Pembelajaran 1

1. **(Mat)** Lengkapilah bagian rumpang kalimat berikut sesuai gambar.

a.



Jarum pendek menunjuk ke angka _____
Jarum panjang menunjuk ke angka _____
dibaca pukul _____

b.



Jarum pendek menunjuk ke angka _____
Jarum panjang menunjuk ke angka _____
dibaca pukul _____

2. **(SBdP)** Perhatikan lagu berikut.

Kasih Ibu

do = c

Ciptaan : Ibu Sud

2/4

andante

||: 3 2 3 | 1 0 1 | 1̇ 6 1̇ | 5 .

Ka-sih i - bu ke - pa - da be - ta

6 5 4 | 3 1 2 | 3 5 3 | 2 .

tak terhing-ga se-pan-jang ma - sa

3 3 2 3 | 1 0 1 | 1̇ 1̇ 6 1̇ | 5 .

hanya membe-ri tak ha-rap- kempa - li

6 6 5 4 | 3 1 2 | 3 3 2 2 | 1 . :||

ba-gai sang surya me-nyi-na-ri du-ni - a

Berilah tanda • pada tekanan kuat.

Berilah tanda -- pada tekanan lemah.

Pembelajaran 2

3. **(PPKn)** Kerjakan soal-soal berikut.

a. Tulislah satu kegiatan bermain bersama teman yang pernah kamu lakukan.

b. Tulislah aturan permainan tersebut.

c. Tulislah sikap yang harus dipelihara agar permainan dapat berjalan dengan baik.

Pembelajaran 3

4. **(B. Ind)** Tulislah kembali kalimat-kalimat berikut menggunakan huruf kapital dan tanda titik dengan tepat.

a. ridwan membantu bagas belajar matematika


b. kakak menasihati adik agar tidak bermain saat hujan

c. ibu meminta lani untuk mengambil minum di meja

5. **(Mat)** Tulislah tanda waktu yang ditunjukkan pada gambar berikut.



Jonas pulang sekolah
pukul _____



Ibu pulang dari kantor
pukul _____

Pembelajaran 5

6. **(PPKn)** Lengkapilah kalimat berikut dengan jawaban yang tepat.

a. Lani dan Jonas satu tim dalam permainan bulu tangkis.

Sebagai satu tim, mereka harus saling _____

- b. Dedi menggiring bola seorang diri.
Dedi tidak mau mengoper bola kepada timnya.
Dedi menunjukkan sikap _____
Akibat dari perbuatan Dedi adalah _____
- c. Komang, Made, dan Mei bermain kucing jongkok.
Komang yang menjadi kucing berhasil menyentuh tangan Made yang tidak sedang berjongkok.
Akan tetapi, Made tidak mau menjadi kucing.
Made menunjukkan sikap tidak _____
Akibat dari tindakan Made adalah _____

7. **(B. Ind)** Buatlah dua kalimat tanya sesuai gambar berikut.



1. _____

2. _____


Pembelajaran 6

8. **(Mat)** Isilah soal-soal berikut dengan tanda waktu 24 jam.
- a. Ayah pulang dari kantor pukul 06.00 sore.
Ayah pulang dari kantor pukul _____
- b. Jonas belajar di rumah pukul 07.00 malam.
Jonas belajar pukul _____
- c. Lani tidur pukul 01.00 siang
Lani tidur pukul _____
- d. Komang terbangun pukul 11.00 malam
Komang terbangun pukul _____

Lingkarilah jawaban yang benar.

9. **(B. Ind)** Penulisan huruf kapital yang benar terdapat pada kalimat . . .
- a. Jonas dan bagas tiba di sekolah pukul enam pagi.
- b. ibu meminta Dimas membelikan telur di warung.
- c. Dedi mengajak teman-teman untuk berdoa kepada Tuhan.

10. **(Mat)** Gambar jam di samping ditulis pukul
- a. 02.00
 - b. 03.00
 - c. 04.00



11. **(SBdP)** Ketukan kuat terdapat pada . . . lagu.
- a. awal
 - b. akhir
 - c. tengah

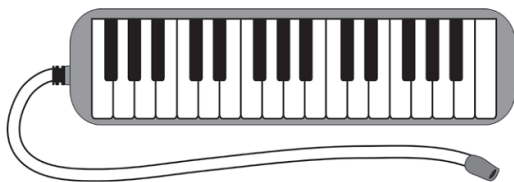
Isilah dengan jawaban yang benar.

12. **(B. Ind)** Buatlah kalimat tanya menggunakan kata tanya *apa* dan *siapa*.

13. **(Mat)** Tulislah waktu yang dimaksud berikut.
- a. Jarum pendek menunjuk ke angka 8 dan jarum panjang menunjuk ke angka 12 (pagi hari).
 - b. Jarum pendek menunjuk ke angka 8 dan jarum panjang menunjuk ke angka 12 (malam hari).

14. **(PPKn)** Made tidak sengaja menabrak Dedi saat bermain bola. Tuliskan contoh sikap sportif yang dapat dilakukan Made.

15. **(SBdP)** Perhatikan gambar berikut.



Alat musik di samping dimainkan dengan cara _____

Catatan Guru: