



Nama: _____

Kelas: _____ Tanggal: _____

LEMBAR PORTOFOLIO


Pembelajaran 1

1. **(Mat)** Tentukan lama kegiatan-kegiatan berikut.

	Mulai	Selesai	Lama Kegiatan
a.	 siang	 sore	_____ jam = _____ menit
b.	 pagi	 sore	_____ jam = _____ menit

Pembelajaran 2

2. **(PPKn)** Semua siswa kelas 2 SD Erlangga mendapatkan tugas piket kelas. Setiap regu piket bergantian melaksanakan tugas piket kelas. Pada suatu hari, Nina tidak masuk sekolah karena sakit, padahal hari itu Nina mendapatkan tugas piket. Apa yang harus dilakukan teman-teman Nina agar tugas piket di kelas tetap dapat berjalan dengan baik?



Pembelajaran 3

3. **(Mat)** Kerjakan soal-soal berikut.

a. Jonas bermain bola selama 2 jam.

Jika Jonas mulai bermain bola pukul 15.00, pukul berapakah Jonas selesai bermain bola? _____

- b. Fitri dan keluarganya akan pergi mengunjungi nenek. Perjalanan ke rumah nenek memerlukan waktu 5 jam. Jika Fitri dan keluarganya berangkat dari rumah pukul 11.00 siang, pukul berapakah mereka tiba di rumah nenek?
-

4. **(B. Ind)** Perhatikan gambar-gambar berikut. Perhatikan juga kalimat penjelasan di bawah gambar. Ubahlah penulisan waktu dalam kalimat tersebut menjadi angka menggunakan tanda titik.





Lani tidur pukul sembilan malam.

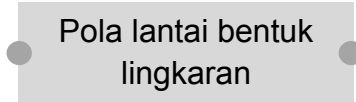
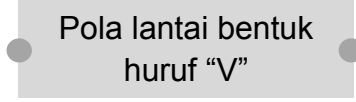
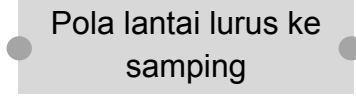
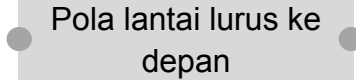




Dedi mengerjakan tugas pukul dua siang.

Pembelajaran 4

5. **(SBdP)** Pasangkan antara gambar dengan nama pola lantai yang benar. Hubungkan menggunakan garis.



-  Pola lantai bentuk lingkaran
-  Pola lantai bentuk huruf "V"
-  Pola lantai lurus ke samping
-  Pola lantai lurus ke depan



6. **(B. Ind)** Perbaikilah penggunaan tanda titik pada setiap kalimat.

a. Dedi berangkat sekolah pukul. 07 00.

b. Jonas pergi bermain. bersama Bagas

c. Pukul 20 45. Fitri tidur

Pembelajaran 6

7. **(B. Ind)** Buatlah dua pertanyaan yang sesuai dengan peristiwa yang terjadi pada gambar berikut.



1. _____

2. _____

8. **(PPKn)** Tulislah sikap yang seharusnya dilakukan agar persatuan tetap terjaga.
- a. Lani memenangkan permainan bulu tangkis melawan Fitri. Fitri tidak terima dan menuduh Lani berbuat curang. Bagaimana sebaiknya sikap Lani terhadap Fitri?

- b. Yansen, Made, dan Dedi bermain kelereng bersama. Saat bermain, Made menyela giliran Dedi. Dedi menyadari tindakan Made. Bagaimana sebaiknya sikap Yansen?

Lingkarilah jawaban yang benar.

9. **(B. Ind)** Penulisan huruf kapital pada identitas diri yang benar adalah
- a. Nama: Jonas Alexander
Tempat, Tanggal Lahir: Jayapura, 30 mei 2009
 - b. Nama: Tata Renata
Tempat, Tanggal Lahir: cileungsi, 7 Juni 2010
 - c. Nama: Riandi Wiharmaja
Tempat, Tanggal Lahir: Jakarta, 9 Januari 2008
10. **(Mat)** Hubungan antarsatuan waktu jam dan menit adalah
- a. 1 menit = 60 jam
 - b. 1 jam = 60 menit
 - c. 6 jam = 10 menit

Isilah dengan jawaban yang benar.

11. **(B. Ind)** Buatlah dua kalimat tanya berdasarkan gambar berikut.



- a. _____

- b. _____

12. **(Mat)** Perhatikan gambar berikut.



Tentukan waktu:

a. 2 jam sebelum waktu di samping.

b. 4 jam setelah waktu di samping.

13. **(PPKn)** Tulislah dua sikap yang harus dilakukan untuk menjaga persatuan saat bermain.

14. **(SBdP)** Amatilah gambar berikut.



Gerak tari pada gambar di samping menirukan gerak _____

15. **(SBdP)** Gambarlah dua macam pola lantai pada kotak berikut.



Catatan Guru: