




Nama: _____

Kelas: ____ Tanggal: ____

LEMBAR PORTOFOLIO

Pembelajaran 1

1. **(SBdP)** Tulislah bentuk motif hias pada gambar berikut! Selanjutnya, warnailah dengan pensil warna atau krayon!



Bentuk motif hias:

Pembelajaran 3

2. **(B. Ind)** Bacalah teks hasil wawancara berikut!

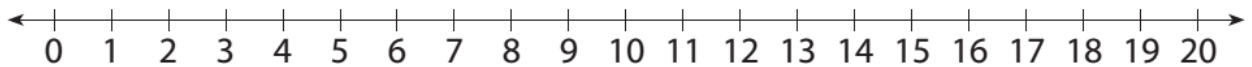
Menanam Kaktus

Kaktus diminati banyak orang untuk dijadikan tanaman hias. Kita dapat menanam kaktus sendiri di rumah. Mula-mula, kita sediakan pot berukuran sedang yang diisi batu kerikil. Letakkan tanah di atas kerikil tersebut dan ratakan. Setelah itu, pindahkan tanaman kaktus ke dalam pot. Padatkan tanah dalam pot menggunakan sekop kecil. Semprotkan air ke tanaman kaktus agar sedikit lembap. Tanaman kaktus siap dijadikan sebagai tanaman hias di rumah.

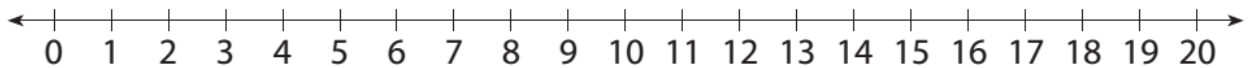
Buatlah tiga kalimat tanya berdasarkan teks “Menanam Kaktus” beserta jawabannya!

3. **(Mat)** Tentukan hasil penjumlahan berikut menggunakan garis bilangan!

a. $9 + 7 = \dots$



b. $8 + 8 = \dots$



Pembelajaran 4

4. **(PPKn)** Tulislah hak dan kewajiban anggota keluarga berikut!

| No. | Anggota Keluarga | Hak di Rumah | Kewajiban di Rumah |
|-----|------------------|--------------|--------------------|
| 1. | Anak | | |
| 2. | | | |
| 3. | | | |
| 4. | | | |

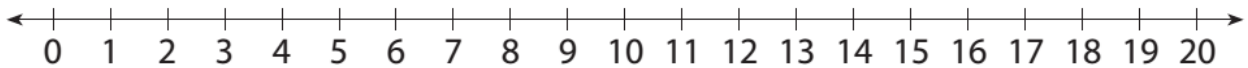
5. **(B. Ind)** Buatlah daftar pertanyaan untuk wawancara dengan kata tanya yang sudah ditentukan! Topik wawancara adalah cara merawat tumbuhan pisang.

| No. | Kata Tanya | Pertanyaan |
|-----|------------|------------|
| 1. | Apa | |
| 2. | Di mana | |
| 3. | Bagaimana | |
| 4. | Kapan | |

Pembelajaran 5

6. **(PPKn)** Kakakmu sedang belajar. Adikmu menyalakan televisi dengan suara sangat keras. Bagaimana pendapatmu tentang sikap adik? Apa yang akan kamu lakukan jika kamu melihat hal tersebut?

7. **(Mat)** Ibu memiliki dua tanaman sirih di halaman depan. Tanaman sirih pertama panjangnya 8 meter. Tanaman sirih yang lain 4 meter lebih panjang dari tanaman pertama. Tentukan panjang kedua tanaman sirih ibu menggunakan garis bilangan!



Pembelajaran 6

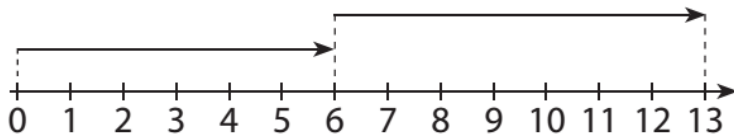
8. **(Mat)** Buatlah soal cerita dari kalimat penjumlahan $9 + 8$! Selanjutnya, selesaikan soal cerita buatanmu menggunakan garis bilangan!

A horizontal number line with arrows at both ends, identical to the one above, labeled with integers from 0 to 20.

Lingkarilah jawaban yang benar!

9. **(B. Ind)** Hal yang perlu dilakukan sebelum melakukan wawancara adalah
- a. menulis jawaban narasumber
 - b. membuat daftar pertanyaan
 - c. menulis hasil wawancara
10. **(SBdP)** Motif pada batik tulis Lasem berbentuk
- a. hewan
 - b. geometris
 - c. tumbuhan

11. **(Mat)** Perhatikan garis bilangan berikut!



Kalimat penjumlahan yang tepat sesuai garis bilangan di atas adalah

a. $6 + 7 = 13$

c. $0 + 13 = 13$

b. $7 + 6 = 13$

12. **(PPKn)** Manfaat bekerja sama antaranggota keluarga adalah

a. pekerjaan cepat selesai

c. dijauhi oleh teman

b. pekerjaan menjadi banyak

Isilah dengan jawaban yang benar!

13. **(B. Ind)** Apa saja yang perlu ditulis dalam laporan hasil wawancara?

14. **(Mat)** Ayah memiliki tiga bambu yang panjangnya masing-masing 4 meter. Tentukan jumlah panjang ketiga bambu menggunakan garis bilangan!

15. **(PPKn)** Ceritakan pengalamanmu bekerja sama di rumah! Tulislah tugas yang kamu lakukan ketika bekerja sama!

Catatan Guru: