



Nama: _____

Kelas: _____ Tanggal: _____

LEMBAR PORTOFOLIO

Pembelajaran 1

1. (Mat) Kerjakan soal-soal berikut!

- a. Pak RT akan membagikan bibit tanaman obat ke warganya. Di lingkungan RT tersebut ada sebanyak 60 keluarga. Tentukan enam kemungkinan banyak bibit tanaman obat yang akan dibagikan dan banyak bibit tanaman yang akan diterima oleh setiap keluarga!

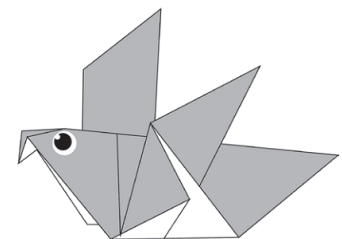
... : ... = 60	... : ... = 60
... : ... = 60	... : ... = 60
... : ... = 60	... : ... = 60

- b. Bu RT membagikan kue untuk para peserta kerja bakti. Peserta kerja bakti ada 40 orang. Tentukan enam kemungkinan banyak kue yang akan dibagikan dan banyak kue yang akan diterima oleh setiap peserta!

... : ... = 40	... : ... = 40
... : ... = 40	... : ... = 40
... : ... = 40	... : ... = 40

2. (SBdP) Amatilah gambar di samping!

Selanjutnya, lengkapi kalimat dengan kata di dalam kotak!



- a. Karya seni seperti pada gambar dinamakan _____
- b. Karya seni tersebut berasal dari _____
- c. Karya seni tersebut dibuat dengan teknik _____
- d. Karya seni tersebut dibuat menggunakan _____

melipat

Jepang

kertas

origami

Pembelajaran 2

3. (B. Ind) Bacalah teks berikut dengan saksama!

Jonas membeli banyak sekali permen di warung. Kakak Jonas berpesan agar permen itu tidak dihabiskan sekaligus. Namun, Jonas menghabiskan semua permen itu. Malam harinya, Jonas tidak bisa tidur. Ia sakit gigi. Ibu kemudian membawa Jonas ke dokter gigi. Dokter memberi obat kepada Jonas. Dokter menyarankan agar Jonas tidak terlalu banyak makan permen. Dokter juga mengatakan agar Jonas rajin menyikat giginya.


Tuliskan saran untuk Jonas berdasarkan kalimat-kalimat berikut!

a. Jonas makan permen terlalu banyak sehingga ia sakit gigi.

b. Dokter memberikan Jonas obat untuk diminum.

c. Jonas lupa menyikat gigi sebelum tidur.


4. (PPKn) Tuliskan hak yang dapat kamu peroleh serta kewajiban yang harus kamu laksanakan sesuai dengan gambar A dan B berikut!



A

Hak: _____

Kewajiban: _____



B

Hak: _____

Kewajiban: _____

Pembelajaran 3

5. (Mat) Bapak Bupati ingin membagikan sejumlah tanaman buah untuk ditanam di 70 taman yang ada di kabupaten. Coba temukan lima kemungkinan untuk jumlah tanaman yang dibagikan dan banyak tanaman untuk tiap taman!

Pembelajaran 4

6. (B. Ind) Bacalah teks berikut dengan saksama!

Lapangan merupakan tempat umum. Setiap orang dapat memakainya untuk berbagai keperluan. Hendaknya setiap pengguna lapangan dapat menjaga dan merawatnya dengan baik. Pengguna lapangan juga hendaknya tidak membuang sampah sembarangan. Masyarakat setempat juga sebaiknya menjaga kebersihan lapangan. Dengan demikian, lapangan akan menjadi bersih dan nyaman untuk digunakan oleh masyarakat.

Tuliskan tiga kalimat saran dari teks di atas!

- a. _____
- b. _____
- c. _____

7. (PPKn) Kerjakan soal-soal berikut!

a. Tuliskan contoh kewajiban saat berada di jalan umum!

b. Tuliskan contoh hak yang kamu terima saat berada di jalan umum!

c. Apa masalah yang biasanya kamu temui saat kamu menggunakan jalan umum? _____

Pembelajaran 6

8. (PPKn) Kerjakan soal-soal berikut!

a. Apa kewajiban yang telah kalian laksanakan sebagai warga negara? _____

b. Apa hak yang telah kalian dapatkan sebagai warga negara?

c. Apa hambatan yang dapat timbul jika warga tidak melaksanakan kewajiban dengan baik? _____

Lingkarilah jawaban yang benar!

9. **(Mat)** $a : b = 24$.

Pasangan nilai a dan b yang tepat adalah

a. $a = 240$ dan $b = 5$

b. $a = 192$ dan $b = 4$

c. $a = 120$ dan $b = 5$

Isilah dengan jawaban yang benar!

10. **(B. Ind)** Bacalah kalimat berikut!

Komang tidak sengaja menghilangkan buku yang dipinjam dari Lani.

Kalimat saran yang tepat untuk kalimat tersebut adalah

11. **(B. Ind)** Bacalah kalimat berikut!

_____ pedagang kue tersebut membuang sampah di tempat sampah.

Kata yang tepat untuk melengkapi kalimat saran di atas adalah kata

12. **(Mat)** Tulislah masing-masing tiga pasangan bilangan dengan hasil pembagian berikut!

a. 18

b. 3

13. **(PPKn)** Contoh hak yang dapat kita peroleh sebagai warga negara Indonesia adalah _____

14. **(PPKn)** Tulislah tiga contoh kewajiban seorang warga negara!

15. **(SBdP)** Tujuan menggunakan kertas bekas untuk membuat karya seni lipat kertas adalah _____

Catatan Guru: