



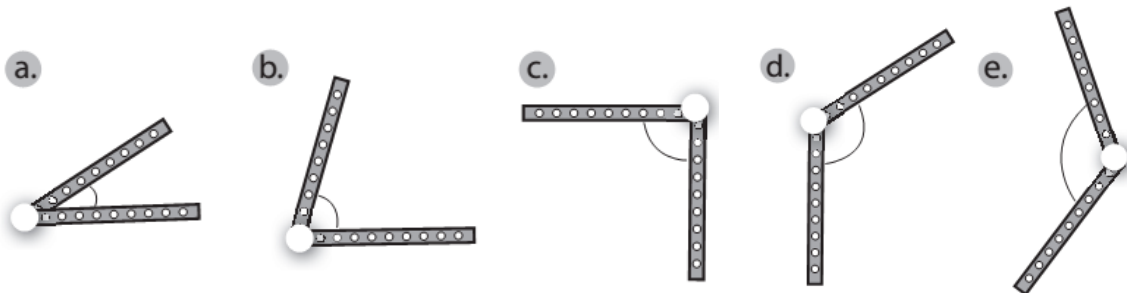
Nama: _____

Kelas: ____ Tanggal: ____

LEMBAR PORTOFOLIO

Pembelajaran 2

1. **(Mat)** Perhatikan gambar berbagai sudut berikut. Lingkarilah sudut lancip dengan warna biru, sudut siku-siku dengan warna merah, dan sudut tumpul dengan warna hitam. Tulislah besar sudutnya masing-masing.



2. **(SBdP)** Apa fungsi sebuah pola lantai dalam tari?

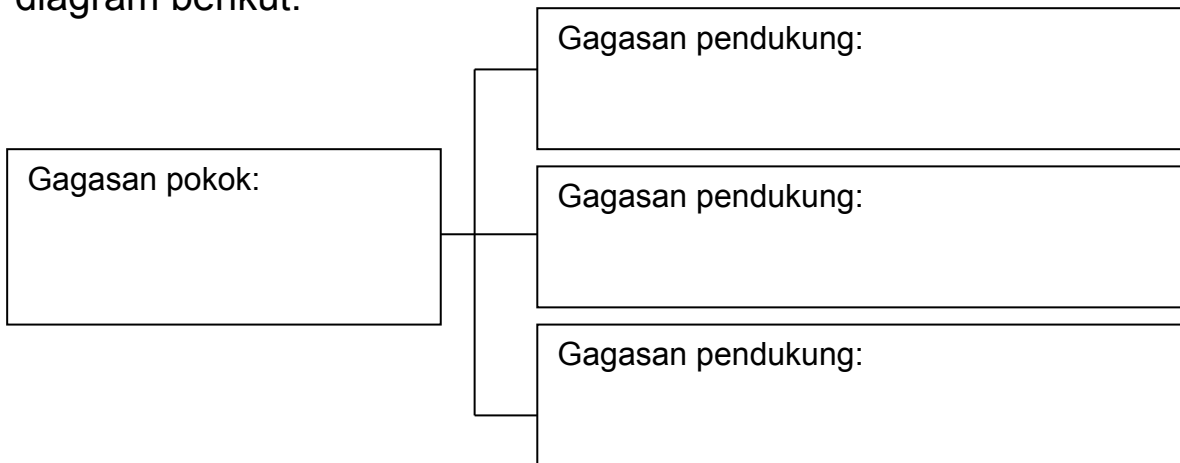
Buatlah pola lantai horizontal dan diagonal pada kotak berikut.

Pembelajaran 3

3. **(B. Ind)** Bacalah paragraf berikut.

Perbedaan tidak menghalangi seseorang dalam hidup bermasyarakat. Menjelang lomba Kampung Idaman, warga bergotong royong membersihkan dan memperindah lingkungan kampung. Para warga melakukan berbagai kegiatan, seperti membersihkan selokan, menyapu halaman, menanam tanaman hias, membuat pot daur ulang, dan menghias tempat sampah menjadi lebih menarik.

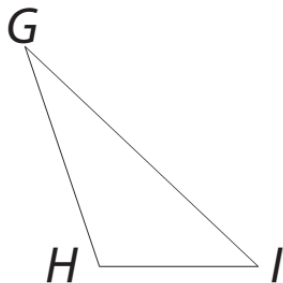
Tuliskan gagasan pokok dan gagasan pendukung paragraf tersebut dalam diagram berikut.



4. **(IPA)** Jelaskan proses mendengar bunyi secara singkat.

Pembelajaran 5

5. **(Mat)** Amatilah gambar berikut dan isilah titik-titik dengan jawaban yang tepat.



Jenis sudut: _____

Taksiran besar sudut:

Sudut G = _____, sudut H = _____, sudut I = _____

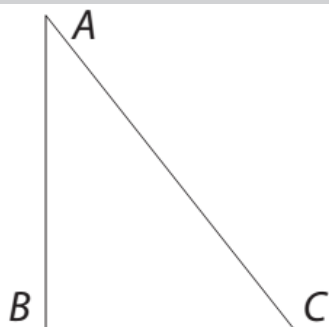
Besar sudut sebenarnya:

Sudut G = _____, sudut H = _____, sudut I = _____

6. **(IPS)** Lengkapilah tabel berikut dengan agama dan hari-hari besar keagamaan yang kamu ketahui. Tuliskan paling sedikit tiga hari besar keagamaan dari tiap-tiap agama.

No.	Agama	Hari-Hari Besar
1.		
2.		
3.		
4.		
5.		
6.		

11. **(Mat)** Perhatikan gambar berikut.



Besar sudut ABC pada bangun datar di samping adalah

- a. 30°
- b. 45°
- c. 60°
- d. 90°

Isilah dengan jawaban yang tepat.

12. **(SBdP)** Formasi yang dilakukan penari berkaitan dengan posisi saat menari disebut _____

13. **(PPKn)** Tulislah kegiatan kerja sama dalam keberagaman agama yang ada di sekitarmu.

14. **(IPA)** Tulislah bagian-bagian telinga bagian luar, tengah, dan dalam.

15. **(IPS)** Tulislah nama perayaan hari besar setiap agama yang ada di Indonesia.

Catatan Guru: