



Nama: _____

Kelas: _____ Tanggal: _____

LEMBAR PORTOFOLIO

Pembelajaran 1

1. (B. Ind) Bacalah cuplikan cerita berikut!

Lanang dan keluarganya tinggal di daerah pesisir. Lanang tinggal bersama ayah, ibu, dan adiknya. Mata pencaharian ayah Lanang adalah nelayan. Ayah Lanang setiap hari melaut. Hasil tangkapannya kemudian dijual di tempat pelelangan ikan. Ketika musim hujan tiba, ayahnya mengurungkan niatnya untuk melaut karena khawatir akan badai yang dapat mengancam nyawanya. Akibatnya, ayah Lanang tidak mendapat uang untuk menghidupi keluarganya. Namun, ayah Lanang tidak menyerah begitu saja. Ia beralih profesi untuk sementara waktu menjadi penjaga pantai di tempat wisata. Akhirnya, Lanang dan keluarganya dapat mengatasi kesulitan yang dihadapi. Lanang, ibu, dan adiknya pun bangga memiliki ayah yang bertanggung jawab terhadap kehidupan keluarga.

Tentukan tokoh, peristiwa, dan inti dari cerita di atas!

Tokoh:
Peristiwa:
Inti cerita:

2. (IPA) Tulislah dampak negatif penggunaan bom ikan dan pukat harimau terhadap beberapa makhluk hidup dalam tabel berikut!

No.	Makhluk Hidup	Dampak Negatif
1.	Ikan	
2.	Rumput laut	
3.	Terumbu karang	

Tulislah usulmu tentang cara menangkap ikan bagi para nelayan supaya keseimbangan sumber daya alam dapat terjaga!

Pembelajaran 2

3. **(PPKn)** Apakah sikap-sikap berikut sesuai dengan pengamalan sila kedua Pancasila dalam kehidupan sehari-hari? Lingkarilah **S** jika sesuai dan **TS** jika tidak sesuai. Selanjutnya, jelaskan alasanmu!
- Menjenguk teman yang sedang sakit. (S / TS)
Alasan: _____
 - Pura-pura tidak melihat ketika ibu guru memerlukan bantuan. (S / TS)
Alasan: _____
 - Melakukan bakti sosial dengan menyumbang pakaian bekas untuk korban banjir. (S / TS)
Alasan: _____

Pembelajaran 3

4. **(B. Ind)** Bacalah cerita berikut dengan saksama!

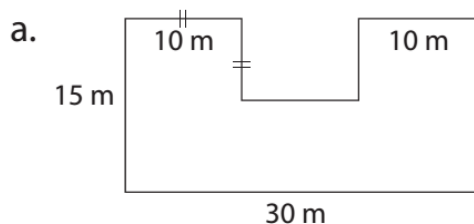
Petani yang baik hati berjalan melewati hutan. Tiba-tiba, ia melihat seekor anak harimau yang terjebak perangkap pemburu. Anak harimau itu tampak ketakutan. Petani merasa kasihan dan membebaskannya. Anak harimau berterima kasih kepada Petani lalu berlari pulang.

Sebulan kemudian, Petani berjalan pulang melalui hutan kembali. Seekor beruang besar menghalangi jalannya dan ingin memakannya. Petani mencoba lari, tetapi ia terjatuh. Sebelum beruang berhasil menerkamnya, tiba-tiba muncul seekor harimau mengusir beruang. Beruang lari tunggang langgang. Kini petani takut harimau itulah yang akan memakannya. Tiba-tiba seekor anak harimau datang dan memintanya untuk tenang. Ternyata harimau penyelamatnya adalah ibu dari anak harimau yang pernah ditolongnya. Ia merasa berterima kasih dan ingin membalas kebaikan Petani.

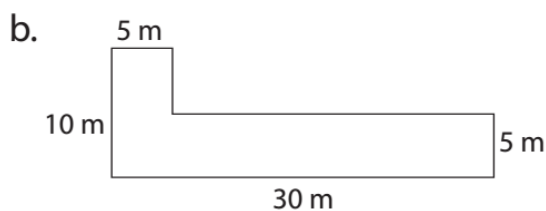
Tulislah pesan moral yang kamu temukan pada cerita di atas!

Pembelajaran 4

5. **(Mat)** Tentukan luas bangun datar gabungan di bawah ini!



Luas = _____



Luas = _____

Pembelajaran 5

6. **(IPS)** Kerjakan soal-soal berikut!

- a. Apa saja yang termasuk ke dalam proses produksi, distribusi, dan konsumsi dalam skema kegiatan ekonomi sayur kangkung? Jelaskan!

- b. Mengapa harga sayur menjadi lebih mahal saat kita membeli di pedagang keliling daripada membeli langsung di pasar?

7. **(SBdP)** Amatilah gambar berikut!



Tuliskan topik yang tepat untuk gambar di samping! Tuliskan apresiasimu terhadap gambar tersebut!

Pembelajaran 6

8. **(PPKn)** Lingkarilah huruf **B** untuk sikap baik dan **TB** untuk sikap tidak baik. Selanjutnya, jelaskan alasanmu!

- a. Mau berteman dengan orang yang berbeda agama. (B / TB)

Alasan: _____

- b. Memaksakan pendapat saat bermusyawarah. (B / TB)

Alasan: _____

- c. Mencintai produk dalam negeri. (B / TB)

Alasan: _____

Lingkarilah jawaban yang benar!

9. **(IPA)** Akibat dari cara menangkap ikan menggunakan peledak adalah

- a. air laut semakin jernih
b. tumbuhan semakin subur
c. mengurangi pendapatan nelayan
d. merusak terumbu karang di laut

10. **(IPS)** Jenis pekerjaan yang terdapat pada tahap distribusi adalah
- guru dan dokter
 - nelayan dan petani sayur
 - peternak kerbau dan penulis
 - agen koran dan pedagang sayur

Isilah dengan jawaban yang benar!

11. **(B. Ind)** Bacalah cerita berikut!

Komang bersahabat dengan Devi. Mereka selalu saling menolong. Mereka sering belajar bersama. Meskipun bersahabat, mereka tidak pernah saling menyontek saat ulangan. Mereka percaya pada kemampuan diri sendiri. Mereka dapat membedakan sikap yang baik dan sikap yang tidak baik.

- a. Menurutmu, apa isi teks cerita di atas?

- b. Apa pesan moral dari cerita tersebut?

12. **(IPS)** Pemetik teh dan buruh pabrik adalah contoh jenis pekerjaan yang terdapat dalam kegiatan ekonomi, yaitu _____

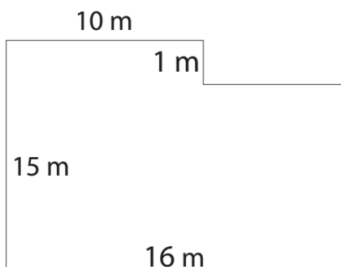
13. **(PPKn)** Perhatikan gambar berikut!



Apa nama kegiatan pada gambar? Sila ke berapakah pada Pancasila yang mencerminkan sikap tersebut? Jelaskan!

14. **(SBdP)** Penilaian terhadap hasil karya yang dibuat seseorang disebut _____

15. **(Mat)** Sebuah tanah berbentuk seperti gambar berikut.



Jika tanah tersebut akan dijual dengan harga Rp1.200.000,00 per m², tentukan total harga penjualan tanah tersebut!

Catatan Guru: