



Nama: _____

Kelas: _____ Tanggal: _____

LEMBAR PORTOFOLIO

Pembelajaran 1

1. **(B. Ind)** Bacalah dongeng berikut dengan saksama!

Kelinci yang jago berlari cepat selalu menyombongkan dirinya kepada hewan-hewan lain. Kura-kura yang kesal kemudian mengajaknya berlomba lari. Saat lomba, Kelinci dengan mudah memimpin lomba dan berlari jauh di depan kura-kura yang berjalan lambat. Kelinci yang merasa sudah menang memutuskan untuk istirahat sejenak di pohon dekat garis akhir. Kura-kura tidak menyerah. Ia berjalan lambat, tetapi semakin mendekati garis finis. Kelinci tiba-tiba terbangun dan kaget melihat Kura-kura sudah menyusulnya. Ia langsung berlari dengan cepat. Namun, Kura-kura sudah melewati garis finis dan memenangkan pertandingan.

a. Siapa saja tokoh dalam cerita tersebut? _____

b. Apa kejadian yang terjadi dalam cerita tersebut?

c. Apa pendapatmu tentang cerita tersebut?

d. Apa pesan moral dalam cerita tersebut?

2. **(IPS)** Tulislah tahapan-tahapan yang terjadi dalam proses pembuatan pakaian! Kelompokkan tahapan-tahapan tersebut dalam kegiatan ekonomi produksi, distribusi, atau konsumsi! Selanjutnya, tulislah jenis pekerjaan yang terlibat dalam tahapan-tahapan tersebut!

No.	Tahapan	Kegiatan Ekonomi	Pekerjaan yang Terlibat

Pembelajaran 3

3. **(IPA)** Kerjakan soal-soal berikut!

a. Apa manfaat kegiatan 4R (*reuse, reduce, recycle, replace*)?

b. Apa perbedaan antara *reuse* dan *recycle*?

c. Tulislah contoh kegiatan *reduce* dan *replace*!

d. Ibu selalu membawa kantong kain untuk berbelanja. Apakah ibu telah melakukan salah satu kegiatan 4R? Jelaskan!

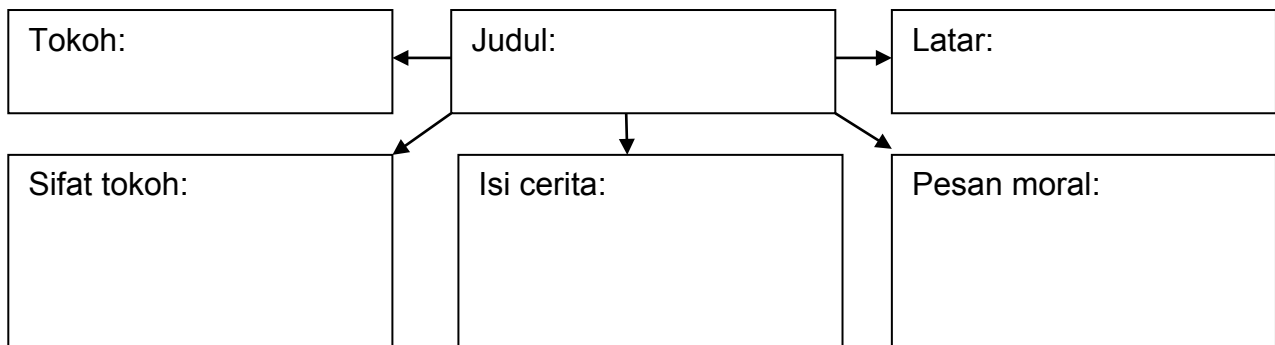
Pembelajaran 4

4. **(B. Ind)** Bacalah dongeng berikut dengan saksama!

Monyet yang Serakah

Monyet yang kelaparan meminta bantuan Jerapah untuk mencari makan. Jerapah dengan senang hati menunjukkan pohon-pohon buah di tepi sungai. Monyet segera memanjat pohon-pohon itu dan makan sesuka hatinya. Jerapah memperingatkan Monyet agar tidak makan terlalu banyak. Namun, Monyet tidak mempedulikannya. Tidak lama, Monyet merasa perutnya sakit. Ternyata banyak buah yang ia makan belum matang. Monyet pun menyesal karena telah bersikap serakah.

Lengkapilah peta pikiran berikut berdasarkan cerita di atas!



Pembelajaran 5

5. **(Mat)** Kerjakan soal-soal berikut!

a. Diketahui sebuah bendera segitiga memiliki ukuran panjang alas 16 cm dan tinggi 4 cm.

(1) Berapakah ukuran luas bendera tersebut? _____

(2) Berapakah keliling bendera tersebut? _____

b. Pak Rahmat memiliki sebidang tanah yang berbentuk segitiga dengan ukuran panjang alas 35 meter dan tinggi segitiga 20 meter.

(1) Berapakah luas tanah Pak Rahmat? _____


(2) Jika setengah bagian dari tanah Pak Rahmat akan dijual dengan harga Rp1.250.000,00 per m², berapa rupiah uang hasil penjualan tanah tersebut? _____

(3) Jika Pak Rahmat ingin memasang pagar di sekeliling tanahnya, berapa meter panjang pagar yang diperlukan? _____

6. **(SBdP)** Tulislah apresiasimu untuk gambar-gambar objek benda berikut!



1



2

Apresiasi: _____

Apresiasi: _____

Pembelajaran 6

7. **(PPKn)** Lingkarilah huruf di depan pernyataan yang menunjukkan sikap baik! Tulislah sila Pancasila yang sesuai dengan sikap tersebut!

a. Ikut serta dalam pemilihan ketua kelas. ()

b. Membantu teman yang kesulitan belajar. ()

c. Menyelesaikan masalah dengan musyawarah ()

d. Tidak mau menerima kritik dan saran orang lain. ()

e. Berdoa sebelum dan sesudah makan. ()

Lingkarilah jawaban yang benar!

8. **(IPS)** Petani menanam padi di sawah merupakan contoh kegiatan

a. produksi

c. distribusi

b. konsumsi

d. koperasi

9. **(IPA)** Berikut yang *tidak* termasuk manfaat hutan adalah

a. sebagai habitat hewan

b. meningkatkan suhu bumi

c. menjaga ketersediaan oksigen di bumi

d. mencegah bahaya banjir serta tanah longsor

Isilah dengan jawaban yang benar!

10. **(B. Ind)** Perhatikan kalimat berikut!

"Janganlah berbuat curang dan merendahkan orang lain!"

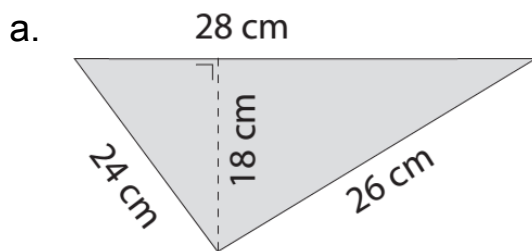
Kalimat tersebut merupakan contoh unsur cerita, yaitu _____

11. **(IPS)** Mengirimkan hasil hutan ke kota termasuk kegiatan ekonomi, yaitu proses _____

12. **(IPA)** Tulislah cara pengolahan sampah kaleng minuman dengan *recycle*!

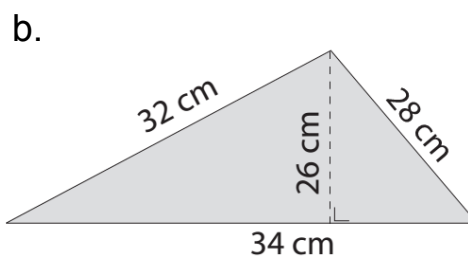
13. **(PPKn)** Tulislah tiga contoh sikap yang sesuai dengan sila ketiga pada Pancasila! _____

14. **(Mat)** Perhatikan segitiga berikut! Hitunglah keliling dan luas segitiga berikut!



Keliling = _____ cm

Luas = _____ cm²



Keliling = _____ cm

Luas = _____ cm²

15. **(SBdP)** Tulislah objek apa saja yang akan kamu gambar ketika menggambar dengan tema pantai!

Catatan Guru: