



Nama: _____

Kelas: _____ Tanggal: _____

LEMBAR PORTOFOLIO

Pembelajaran 1

1. **(IPS)** Indonesia memiliki beberapa tokoh terkenal pada masa kerajaan Islam, antara lain Sultan Baabullah dari Kerajaan Ternate dan Sultan Agung dari Kerajaan Mataram.

a. Apa julukan yang dimiliki oleh Sutan Baabullah?

b. Mengapa Sultan Agung melakukan penyerangan terhadap Belanda?

c. Apa saja peninggalan sejarah dari Kerajaan Ternate dan Kerajaan Mataram?

2. **(B. Ind)** Bacalah teks berikut dengan saksama!

Tuanku Imam Bonjol yang memiliki nama lengkap Muhammad Sahab adalah salah satu Pahlawan Indonesia. Beliau lahir di Pasaman (Sumatra Barat), pada tahun 1772 dan wafat di usia 92 tahun tanggal 8 November 1864. Peto Syarif adalah panggilannya ketika remaja. Saat dewasa, beliau terkenal sebagai pemimpin yang tegas menentang penyimpangan ajaran-ajaran agama di Sumatra Barat.

a. Tulislah informasi-informasi penting yang kamu dapat dari teks di atas!

b. Tulislah informasi lain yang ingin kamu ketahui lebih lanjut setelah membaca teks di atas!

Pembelajaran 2

3. **(PPKn)** Amatilah gambar berikut!







Bergotong royong membersihkan selokan di lingkungan RT.

a. Apa kegiatan yang dilakukan orang-orang dalam gambar tersebut?

b. Apakah kegiatan tersebut mencerminkan sila kelima Pancasila? Jelaskan!

4. **(SBdP)** Lengkapilah tabel berikut dengan nama not dan banyak ketukan yang tepat!

Gambar	Nama Not	Ketukan
		
		
		
		

Pembelajaran 3

5. **(IPA)** Amatilah gambar berikut!



a. Lensa apa yang digunakan pada alat tersebut?

b. Apa fungsi lensa pada alat tersebut?

c. Tulislah dua sifat cahaya yang diterapkan pada alat tersebut! _____

d. Tulislah dua contoh alat optik selain kaca mata, lup, dan mikroskop!

Pembelajaran 4

6. **(B. Ind)** Perhatikan teks visual berikut!

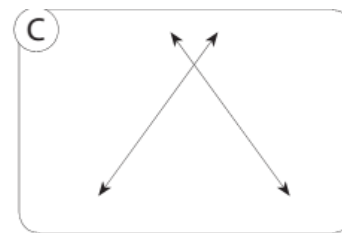
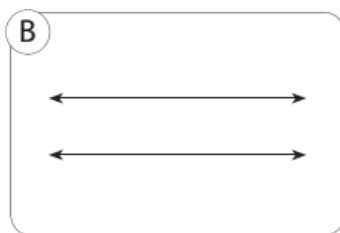
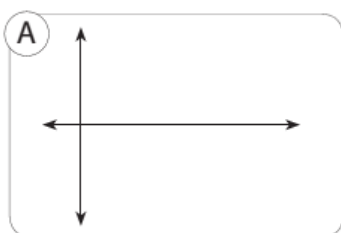


Pangeran Antasari lahir di Kayu Tangi, Kabupaten Banjar, Provinsi Kalimantan Selatan, pada tahun 1797. Ayahnya bernama Pangeran Masohut (Mas'ud), sedangkan ibunya bernama Gusti Hadijah.

Isilah tabel berikut sesuai dengan teks visual yang kamu baca!

Hal yang aku ketahui tentang Pangeran Antasari	Hal yang ingin aku ketahui lebih lanjut tentang Pangeran Antasari

7. **(Mat)** Perhatikan gambar berikut!



a. Di antara ketiga gambar tersebut, manakah yang termasuk garis sejajar, berpotongan tegak lurus, dan berpotongan tidak tegak lurus?

b. Bagaimanakah sudut yang dibentuk oleh gambar A?

c. Apakah gambar B dapat membentuk sudut? Jelaskan!

d. Tulislah satu contoh benda yang berpotongan seperti gambar C!

Pembelajaran 6

8. **(PPKn)** Tulislah sikap kepahlawanan yang sesuai sila kelima Pancasila dalam kehidupan sehari-hari dalam tabel berikut!

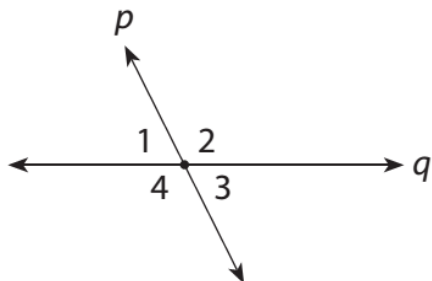
Di Rumah	Di Sekolah	Di Masyarakat

Lingkarilah jawaban yang benar!

9. **(B. Ind)** Peta pikiran berisi . . . penting dan inti bacaan.
Kata yang tepat untuk melengkapi titik tersebut adalah

- a. rangkuman
- b. naskah
- c. cerita
- d. puisi

10. **(Mat)** Amatilah gambar berikut!



Pada gambar di atas, pasangan sudut yang sama besar adalah

- a. $\angle 1$ dan $\angle 2$
- b. $\angle 3$ dan $\angle 4$
- c. $\angle 2$ dan $\angle 4$
- d. $\angle 4$ dan $\angle 3$

Isilah dengan jawaban yang benar!

11. **(B. Ind)** Bentuk informasi dari suatu teks bacaan dapat berupa informasi _____ dan informasi _____

12. **(IPA)** Bayangan benda yang terbentuk tidak teratur terjadi karena pemantulan _____

13. **(IPS)** Tulislah contoh peninggalan Kerajaan Ternate!

14. **(PPKn)** Tulislah contoh sikap kepahlawanan yang mencerminkan sila kelima Pancasila! _____

15. **(SBdP)** Tulislah notasi angka dan balok dari nada-nada berikut dalam bentuk not seperempat!

a. $\dot{\text{do}}$ la fa mi sol re $\dot{\text{do}}$

b. sol mi fa sol sol mi do

Catatan Guru: