



Nama: _____

Kelas: _____ Tanggal: _____

LEMBAR PORTOFOLIO

Pembelajaran 1

1. **(B. Ind)** Bacalah teks berikut dengan saksama.

Di Jalan Airlangga, Mataram, Nusa Tenggara Barat (NTB), terdapat sebuah tempat bernama Taman Budaya. Taman ini dibangun untuk memperkenalkan budaya NTB kepada masyarakat sekitar atau wisatawan lokal dan asing. Taman Budaya ini didirikan pada tanggal 23 April 1991 sesuai dengan Surat Keputusan Menteri Pendidikan dan Kebudayaan Republik Indonesia di lahan seluas kurang lebih 1 hektare.

Dari tahun ke tahun, pengunjung taman budaya ini terus meningkat. Hampir setiap harinya, ada seratus pengunjung mengunjungi Taman Budaya NTB. Adapun wisatawan yang datang sebagian besar berasal dari luar NTB atau mancanegara. Untuk meningkatkan jumlah wisatawan yang berkunjung ke Taman Budaya NTB, saat ini sedang dilakukan pemugaran di beberapa bagian. Selain itu, dilakukan juga penambahan bangunan untuk menunjang sarana informasi bagi para pengunjung.

a. Tulislah pokok pikiran dari setiap paragraf di atas.

Paragraf 1: _____

Paragraf 2: _____

b. Tulislah tiga kata sulit yang ada pada teks di atas. Carilah artinya di kamus bahasa Indonesia.

Kata	Arti

2. **(IPA)** Kerjakan soal-soal berikut.

a. Apa yang dimaksud dengan listrik statis?

b. Mengapa potongan kertas dapat menempel ke permukaan penggaris plastik yang telah digosokkan ke rambut?

- c. Kapan potongan kertas yang menempel pada penggaris plastik akan terlepas? _____
- d. Dua benda bermuatan listrik sejenis jika didekatkan akan _____, sedangkan dua benda bermuatan listrik tidak sejenis jika didekatkan akan _____

Pembelajaran 2

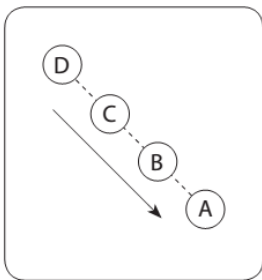
3. **(SBdP)** Kerjakan soal-soal berikut.

a. Apa yang dimaksud dengan pola lantai dalam tari? _____

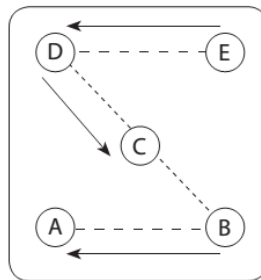
b. Apa fungsi pola lantai dalam tari? _____

c. Tulislah nama jenis pola-pola lantai berikut.

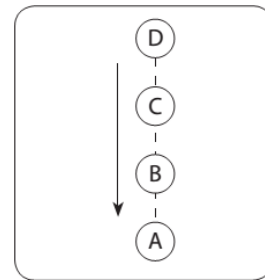
1)



2)



3)



Pembelajaran 3

4. **(PPKn)** Kelasmu mengadakan kunjungan ke Yogyakarta. Di sana, kamu dan teman-teman mengunjungi sebuah tempat wisata. Di tempat tersebut terdapat rumah adat asli Yogyakarta. Pemandu wisata menjelaskan tentang sejarah dan makna dari bentuk rumah tersebut.

a. Bagaimana sebaiknya sikapmu saat pemandu wisata menjelaskan tentang rumah adat tersebut? _____

b. Toni tidak tertarik mendengarkan penjelasan pemandu. Menurutmu, rumah adat itu kuno dan tidak perlu dilestarikan. Apakah kamu setuju dengan sikap Toni? Jelaskan.

c. Menurutmu, apa akibatnya jika setiap warga negara Indonesia bersikap seperti Toni? _____

5. **(IPS)** Kerjakan soal-soal berikut.

a. Mengapa bentuk rumah adat di Indonesia sangat beragam? Jelaskan apa yang memengaruhinya.

b. Jelaskan secara singkat tentang bentuk rumah dan hiasan pada rumah pada gambar berikut.



Pembelajaran 5

6. **(PPKn)** Kerjakan soal-soal berikut.

a. Edo berasal dari Ambon. Ia mengalami kesulitan ketika bermain angklung. Jika kamu memiliki teman seperti Edo, apa yang akan kamu lakukan? _____

b. Dayu menolak mempelajari tari jaipong. Menurut Dayu, seni tari dari daerah asalnya lebih bagus. Menurutmu, apakah sikap Dayu mencerminkan upaya melestarikan kesenian daerah?

Pembelajaran 6

7. **(B. Ind)** Bacalah teks berikut dengan saksama.

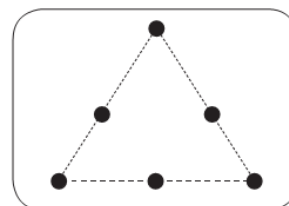
Batik merupakan warisan Nusantara yang menjadi identitas dan kebanggaan bangsa Indonesia. Batik juga telah diakui sebagai salah satu warisan budaya dunia oleh UNESCO sejak tanggal 2 Oktober 2009. Penetapan UNESCO tersebut pada akhirnya ditetapkan sebagai Hari Batik Nasional oleh pemerintah Indonesia. Kebanggaan terhadap batik tidak hanya ditunjukkan saat peringatan Hari Batik Nasional saja. Setiap sekolah di Indonesia pada umumnya memberlakukan penggunaan seragam batik pada hari tertentu. Batik juga sering dipakai dalam berbagai acara resmi dan acara peragaan busana, baik yang berkelas nasional maupun internasional.

Tuliskan tiga informasi penting yang kamu peroleh dari teks di atas.

Lingkarkanlah jawaban yang benar.

8. **(IPA)** Listrik statis dapat terjadi karena
- a. muatan listrik mengalir dari kutub positif ke kutub negatif
 - b. muatan listrik yang tidak mengalir pada suatu benda
 - c. muatan listrik tidak sejenis
 - d. muatan listrik sejenis

9. **(SBdP)** Formasi penari pada gambar di samping membentuk pola lantai



- a. segitiga
- b. persegi
- c. segi lima
- d. zig-zag

10. **(IPS)** Rumah adat dan asal provinsinya yang tepat adalah

- a. Tongkonan dari Sumatra Selatan
- b. Lamin dari Kalimantan Timur
- c. Joglo dari Sumatra Selatan
- d. Rumah Gadang dari Sulawesi Barat

Isilah dengan jawaban yang benar.

11. **(B. Ind)** Bacalah paragraf berikut.

Reog Ponorogo merupakan kesenian khas Ponorogo, Jawa Timur. Tarian ini dipentaskan dalam beberapa acara seperti pernikahan, khitanan, dan peringatan hari-hari besar nasional. Seni Reog Ponorogo terdiri atas beberapa rangkaian, yaitu dua sampai tiga tarian pembukaan.

Apa informasi penting yang terdapat pada paragraf tersebut?

12. **(IPA)** Tulislah perubahan energi yang terjadi pada peralatan listrik berikut.

- a. blender : _____
- b. televisi : _____

13. **(SBdP)** Buatlah skema formasi pola lantai untuk 6 orang penari (A, B, C, D, E, dan F) dengan bentuk dua garis vertikal. Buatlah pada kotak di samping.

14. **(IPS)** Rumah adat suatu daerah disesuaikan dengan _____ masyarakatnya.

15. **(PPKn)** Contoh kegiatan yang menunjukkan usaha pelestarian tari adat adalah _____

Catatan Guru: