



Nama: _____

Kelas: ____ Tanggal: ____

LEMBAR PORTOFOLIO

Pembelajaran 1

1. **(IPA)** Perhatikan gambar berikut!



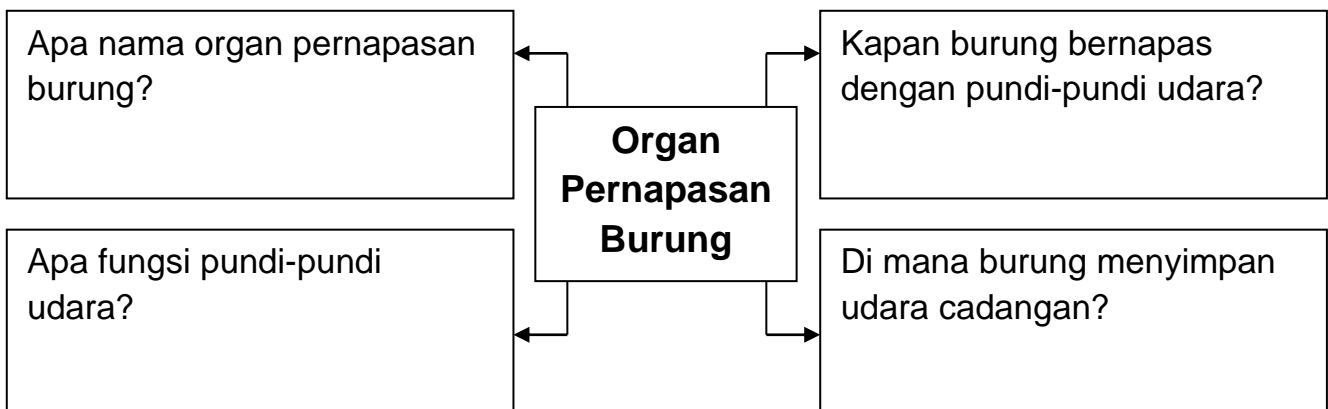
Apakah keadaan pada gambar tersebut dapat mengganggu pernapasan manusia? Jelaskan jawabanmu!

2. **(B. Ind)** Bacalah teks berikut dengan saksama!

Organ Pernapasan Burung

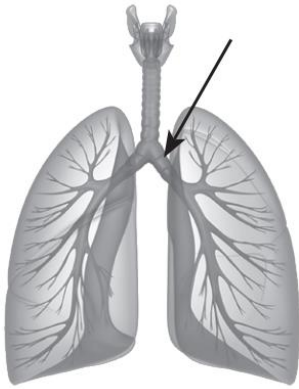
Organ pernapasan burung adalah paru-paru. Burung juga memiliki organ pernapasan yang disebut pundi-pundi udara. Saat terbang, pernapasan burung dibantu pundi-pundi udara. Pundi-pundi udara mampu menyimpan udara cadangan. Saat terbang, burung tidak bernapas dengan cara menghirup udara langsung, tetapi udara yang tersimpan di dalam pundi-pundi udara. Kepakan sayap burung membantu udara di dalam pundi-pundi udara mengalir ke paru-paru.

Tulislah informasi pada teks di atas dengan bantuan peta pikiran berikut!



Pembelajaran 2

3. (IPA) Perhatikan gambar berikut!



a. Apa nama penyakit yang dapat menyerang organ yang ditunjuk anak panah?

b. Tulislah penyebab dan ciri-ciri penyakit tersebut!

Pembelajaran 4


4. (PPKn) Amatilah gambar berikut!




a. Apa kewajiban warga pada kegiatan tersebut? _____

b. Apa hak warga pada kegiatan tersebut?

5. (IPS) Perhatikan gambar-gambar berikut!



A



B



C

a. Apa sumber daya alam yang dimanfaatkan pada kegiatan ekonomi tersebut? _____

b. Gambar manakah yang menunjukkan kegiatan produksi, distribusi, dan konsumsi? _____

c. Apakah kegiatan-kegiatan pada gambar berdampak positif pada masyarakat sekitar? Jelaskan jawabanmu!

Pembelajaran 5

6. **(SBdP)** Amatilah gambar berikut!



Apa saja properti yang diperlukan pada tari daerah pada gambar?

Pembelajaran 6

7. **(B. Ind)** Bacalah teks berikut dengan saksama!

Pada Jumat malam, Warga RW 07 mengadakan musyawarah untuk membicarakan masalah pembangunan taman kota. Musyawarah diadakan di rumah Ketua RW 07, Pak Hasan. Musyawarah juga dipimpin langsung oleh Pak Hasan. Musyawarah berjalan alot karena banyak pendapat yang disampaikan. Untuk mengatasi perbedaan pendapat, Pak Hasan mengadakan *voting* atau pemungutan suara. *Voting* dilakukan karena musyawarah antarwarga setempat tidak tercapai. Seluruh warga pun setuju.

Berdasarkan teks, buatlah tiga pertanyaan dan jawabannya menggunakan kata tanya *apa, di mana, kapan, siapa, mengapa, atau bagaimana!*

Lingkarilah jawaban yang benar.

8. **(IPA)** Berikut yang *bukan* faktor yang dapat mengganggu pernapasan manusia adalah

- | | |
|-----------------------|-----------------------------|
| a. virus atau bakteri | c. kondisi fisik yang lemah |
| b. pencemaran udara | d. kekurangan kalsium |

9. **(SBdP)** Properti tari adalah

- alat musik yang digunakan
- tata panggung yang harus disiapkan
- baju yang digunakan saat pertunjukan tari
- segala peralatan yang digunakan saat menari

10. **(PPKn)** Berikut yang *bukan* contoh tanggung jawab sebagai anggota masyarakat adalah
- a. melakukan kerja bakti
 - b. melaksanakan ronda malam
 - c. mendapatkan hadiah lomba
 - d. menjaga kerukunan
11. **(IPS)** Berikut yang *bukan* contoh usaha perorangan adalah
- a. toko kelontong
 - b. pedagang kaki lima
 - c. tukang cukur rambut
 - d. koperasi desa mandiri

Isilah dengan jawaban yang benar.

12. **(IPA)** Hari ini, Made merasa tidak enak badan karena terkena flu.
- a. Apa penyebab penyakit flu? _____
 - b. Apa saja gejala penderita penyakit flu? _____
- _____

13. **(B. Ind)** Bacalah teks berikut!

Asma adalah penyempitan jalan udara akibat pembengkakan pada saluran pernapasan (bronkus). Serangan asma dapat terjadi karena tenggorokan penderita asma sangat sensitif terhadap zat pemicu tertentu, misalnya debu, serbuk sari bunga, atau udara dingin.

Buatlah dua kalimat tanya yang sesuai dengan informasi teks di atas!

14. **(PPKn)** Tulislah nilai-nilai penting yang ada di dalam musyawarah!

15. **(IPS)** Apa ciri-ciri usaha dalam bentuk koperasi? Jelaskan!

Catatan Guru: