



Nama: \_\_\_\_\_

Kelas: \_\_\_\_\_ Tanggal: \_\_\_\_\_

# LEMBAR PORTOFOLIO

## Pembelajaran 1

1. (IPS) Amatilah kedua gambar berikut. Tulislah peran kedua tokoh berikut dalam persiapan proklamasi kemerdekaan Indonesia.



Dr. Radjiman Wedyodiningrat



Ir. Soekarno

Sumber: www.wikimedia.org

a. Peran Dr. Radjiman Wedyodiningrat:

\_\_\_\_\_



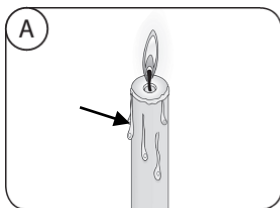
\_\_\_\_\_

b. Peran Ir. Soekarno:

\_\_\_\_\_

\_\_\_\_\_

2. (IPA) Perhatikan gambar berikut.

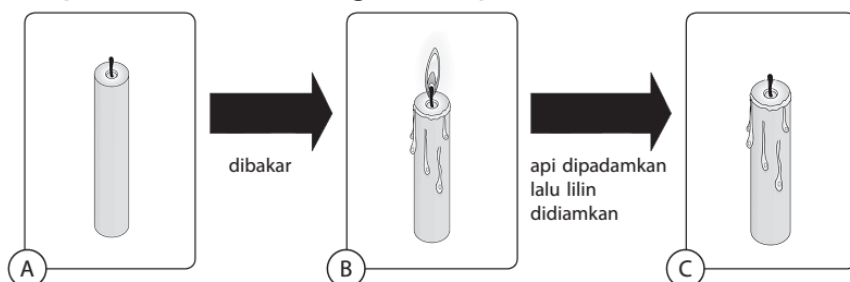


Isilah dengan jawaban yang tepat sesuai ketiga gambar di atas.

- a. Pada gambar A, terjadi proses \_\_\_\_\_, yaitu perubahan wujud dari benda \_\_\_\_\_ menjadi benda \_\_\_\_\_.
- b. Pada gambar B, terjadi proses \_\_\_\_\_, yaitu perubahan wujud dari benda \_\_\_\_\_ menjadi benda \_\_\_\_\_.
- c. Pada gambar C, terjadi proses \_\_\_\_\_, yaitu perubahan wujud dari benda \_\_\_\_\_ menjadi benda \_\_\_\_\_.
- d. Pada gambar A, B, dan C; benda manakah yang dapat mengalami perubahan kembali menjadi wujud semula? \_\_\_\_\_

## Pembelajaran 2

3. (IPA) Perhatikan rangkaian percobaan berikut.



- a. Tulislah perubahan wujud benda yang terjadi pada rangkaian percobaan tersebut. \_\_\_\_\_  
\_\_\_\_\_
- b. Apa yang dialami lilin saat dibakar? Apakah terjadi pelepasan atau penyerapan kalor? Jelaskan.  
\_\_\_\_\_
- c. Apa yang dialami lilin yang mencair saat didiamkan? Apakah terjadi pelepasan atau penyerapan kalor? Jelaskan.  
\_\_\_\_\_

4. **(SBdP)** Kerjakan soal-soal berikut.

- a. Pada tarian yang menggunakan pola lantai diagonal, penari akan melakukan gerakan \_\_\_\_\_ ke kanan atau ke kiri.
- b. Pola lantai yang digunakan oleh penari yang melakukan formasi bentuk garis lurus ke samping adalah \_\_\_\_\_
- c. Dalam pola lantai gerak melengkung, penari akan melakukan gerakan membentuk \_\_\_\_\_
- d. Tulislah contoh tari daerah yang kamu ketahui beserta pola lantainya.

Tari Daerah	Asal Daerah	Pola Lantai

## Pembelajaran 3

5. **(B. Ind)** Bacalah teks berikut dengan saksama.

**Ir. Soekarno**

Ir. Soekarno atau Bung Karno adalah tokoh penting dalam sejarah kemerdekaan Indonesia. Bung Karno merupakan pembaca teks proklamasi pada tanggal 17 Agustus 1945. Bung Karno terpilih menjadi presiden Republik Indonesia pada tanggal 18 Agustus 1945 atas hasil sidang PPKI. Sebagai presiden, beliau berjasa dalam mempertahankan kemerdekaan bangsa. Banyak usaha-usaha beliau yang dilakukan setelah proklamasi kemerdekaan Indonesia.

Bung Karno pernah ditangkap oleh Belanda dan diasingkan ke Pulau Bangka pada tanggal 19 Desember 1948 saat terjadi serangan militer Belanda di wilayah Indonesia. Sebelum tertangkap, beliau mengirimkan amanat kepada Menteri Kemakmuran saat itu, yaitu Syafruddin Prawiranegara untuk membentuk dan memimpin Pemerintahan Darurat Republik Indonesia (PDRI) di Bukittinggi, Sumatra Barat.

Buatlah pertanyaan menggunakan kata tanya *apa, di mana, kapan, siapa, mengapa, atau bagaimana* berdasarkan teks “Ir. Soekarno”.

No.	Pertanyaan

6. (PPKn) Amatilah gambar berikut.



a. Apa manfaat kegiatan tersebut bagi lingkungan sekitar?

---



---



---

b. Apa yang terjadi jika masyarakat tidak saling menghargai dan menghormati dalam melaksanakan kegiatan tersebut?

---



---

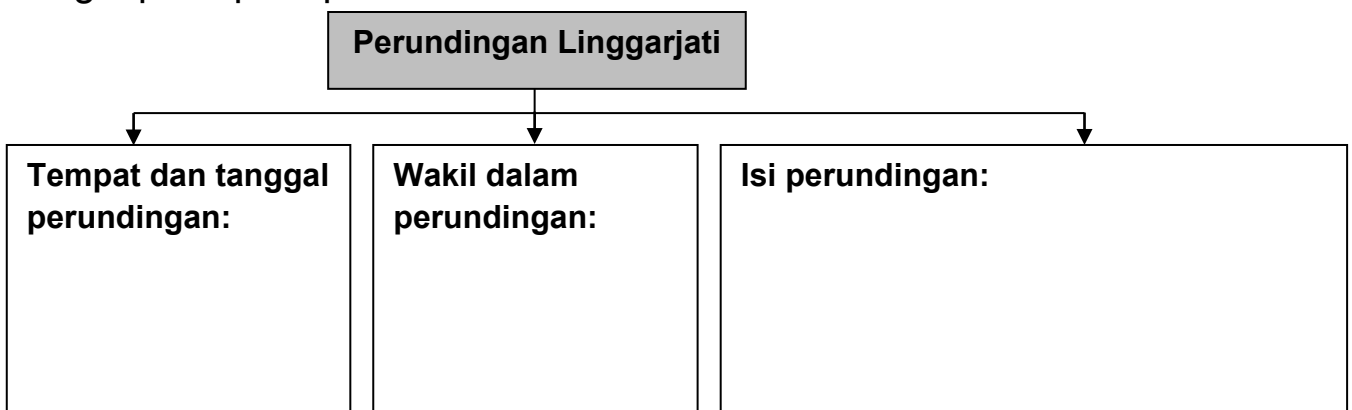
## Pembelajaran 6

7. (B. Ind) Bacalah teks berikut dengan saksama.

### Perundingan Linggarjati

Pada 10 November 1946 di daerah Linggarjati, Cirebon, Jawa Barat, diadakan suatu perundingan yang dikenal dengan nama Perundingan Linggarjati. Wakil dari Indonesia dalam perundingan tersebut adalah Sutan Syahrir. Sementara itu, wakil dari Belanda dipimpin oleh Van Mook. Perundingan tersebut menghasilkan beberapa kesepakatan. Pertama, pengakuan kedaulatan Indonesia atas Jawa, Sumatra, dan Madura secara *de facto*. Kedua, Indonesia dan pemerintah Belanda bersama-sama mendirikan negara federal yang bernama Negara Indonesia Serikat (NIS). NIS terdiri atas Republik Indonesia, Indonesia Timur, dan Kalimantan. Terakhir, NIS dan Belanda akan bergabung dalam Uni Indonesia-Belanda yang diketuai oleh Ratu Belanda.

Lengkapilah peta pikiran berikut berdasarkan teks di atas.



**Lingkarilah jawaban yang benar.**

8. **(IPA)** Benda yang *tidak* dapat mengalami perubahan wujud dari padat ke cair lalu kembali ke padat lagi adalah . . . .
- a. es krim
  - b. lilin
  - c. logam
  - d. kamper
9. **(SBdP)** Contoh tari yang menggunakan pola lantai garis lengkung membentuk lingkaran adalah . . . .
- a. tari kecak dari Bali
  - b. tari saman dari Aceh
  - c. tari yapong dari Jakarta
  - d. tari reog Ponorogo dari Jawa Timur
10. **(IPS)** Salah satu tokoh nasional yang terlibat dalam pertempuran 10 November 1945 di Surabaya adalah . . . .
- a. Ir. Soekarno
  - b. Bung Tomo
  - c. A. W. S. Mallaby
  - d. Kolonel Soedirman

**Isilah dengan jawaban yang benar.**

11. **(IPA)** Saat dipanaskan, air akan menyerap kalor sehingga akan berubah menjadi \_\_\_\_\_ yang berwujud \_\_\_\_\_.

*Bacalah teks berikut untuk menjawab soal nomor 12 dan 13.*

Peristiwa Rengasdengklok terjadi tepat satu hari sebelum hari Kemerdekaan Republik Indonesia. Pada tanggal 16 Agustus 1945, para pemuda Indonesia mengasingkan tokoh proklamator Indonesia, yaitu Bung Karno dan Bung Hatta ke Rengasdengklok. Para pemuda melakukan hal tersebut dengan tujuan untuk menjauhkan Bung Karno dan Bung Hatta dari pengaruh Jepang yang dapat menghambat proklamasi kemerdekaan Indonesia.

12. **(B. Ind)** Tulislah pokok pikiran dari teks tersebut.

---

---

13. **(B. Ind)** Tulislah kesimpulan dari teks tersebut.

---

---

---

14. **(SBdP)** Tari saman dari Aceh menggunakan pola lantai \_\_\_\_\_

---

15. **(PPKn)** Tulislah dua contoh kegiatan yang menggambarkan kerukunan dalam keberagaman masyarakat. \_\_\_\_\_

---

---

**Catatan Guru:**