



Nama: _____

Kelas: _____ Tanggal: _____

LEMBAR PORTOFOLIO

Pembelajaran 1

1. **(B. Ind)** Amatilah iklan berikut dengan saksama. Setelah itu, kerjakan soal-soal yang diberikan.



- Apa media yang digunakan untuk iklan tersebut? _____
- Apa produk yang ditawarkan pada iklan tersebut? _____

- c. Siapa yang menjadi sasaran iklan tersebut? Apakah anak-anak, remaja, orang dewasa, atau orang tua? Jelaskan.

- d. Apa keunggulan produk pada iklan tersebut?

2. **(IPA)** Lengkapilah tabel berikut.

No.	Minuman	Kandungan	Jenis Campuran (Homogen/Heterogen)	Alasan
1	Es teh manis			
2	Es jeruk			
3	Es kelapa			


Pembelajaran 2

3. **(IPA)** Lengkapilah dengan jawaban yang tepat.
- Benda yang merupakan campuran dua zat dan menyisakan endapan dinamakan _____
 - Kuah bakso terasa gurih dan manis karena menggunakan _____
 - Air dan kopi jika dicampurkan akan membentuk campuran _____

d. Air dan gula pasir jika dicampurkan akan membentuk campuran

e. Jika kamu mencampurkan minyak ke dalam segelas air, minyak akan berada di bagian _____


4. **(SBdP)** Perhatikan gambar pola lantai pada tarian berikut. Tulislah nama pola lantai dan keterangannya.



a

Pola lantai : _____

Keterangan : _____



b

Pola lantai : _____

Keterangan : _____

Pembelajaran 3

5. **(B. Ind)** Perhatikan iklan berikut dengan saksama.



a. Di antara iklan A dan B, manakah iklan yang menggunakan bahasa formal dan manakah yang menggunakan bahasa nonformal? Jelaskan.

b. Tulislah isi iklan di atas.

c. Apa akibatnya jika kamu mengabaikan pesan dari iklan tersebut?

Pembelajaran 4

6. **(PPKn)** Tulislah saran untuk menjaga kerukunan di lingkungan keluarga sesuai cerita berikut.

a. Dedi sedang menonton televisi. Adik Dedi ingin menonton acara lain. Dedi sebaiknya: _____

- b. Jonas mendengarkan musik dari radio dengan suara yang cukup keras. Adiknya yang sedang mengerjakan tugas sekolah merasa terganggu. Jonas sebaiknya: _____
- c. Lani dan kakaknya menyukai jenis makanan yang berbeda. Hari ini, ibu memasak makanan kesukaan Lani. Lani mengambil makanan lebih banyak dari biasa, padahal anggota keluarga yang lain belum makan. Lani sebaiknya: _____

7. **(IPS)** Perhatikan kedua gambar berikut.

A



Toko Kelontong

B



Koperasi Sekolah

- a. Apa perbedaan antara jenis usaha dalam kedua gambar tersebut berdasarkan cara pengelolaannya?
- _____
- _____
- b. Tulislah contoh usaha lain yang memiliki cara pengelolaan yang sama seperti kedua gambar tersebut di lingkungan sekitarmu.
- _____
- _____
- c. Tulislah keuntungan dan kelebihan mengelola kegiatan usaha dalam gambar tersebut. _____
- _____
- _____

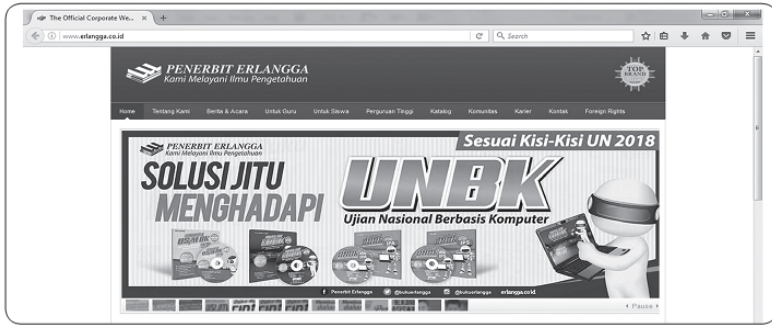
Pembelajaran 6

8. **(PPKn)** Tulislah contoh kegiatan yang mencerminkan kerukunan di lingkungan rumah, sekolah, dan masyarakat. Tulislah juga manfaat kegiatan tersebut.

No.	Tempat	Kegiatan	Manfaat Kegiatan
1	Rumah		
2	Sekolah		
3	Masyarakat		

Isilah dengan jawaban yang benar.

Perhatikan iklan berikut untuk menjawab soal nomor 9 dan 10.



9. **(B. Ind)** Iklan elektronik tersebut menggunakan media _____

10. **(B. Ind)** Tulislah isi dan kesimpulan dari iklan tersebut.

11. **(IPA)** Tulislah zat terlarut dan zat pelarut pada benda-benda berikut.

a. Kuah bakso yang diberi kecap.


b. Susu bubuk yang dilarutkan dalam air hangat.

12. **(IPS)** Berjualan sayur dengan gerobak sayur dengan cara berkeliling termasuk usaha ekonomi _____

13. **(IPS)** Tulislah kelebihan dan kekurangan usaha yang dikelola secara kelompok. _____

14. **(PPKn)** Tulislah dua sikap yang dapat kita kembangkan untuk menjaga persatuan dan kesatuan dalam keberagaman bangsa.

15. **(SBdP)** Perhatikan gambar tari berikut.



a. Apa pola lantai pada tari tersebut?

b. Apa properti yang digunakan dalam tari tersebut?

Catatan Guru:
